

Michael Buhlmann

Wahrscheinlichkeits- rechnung (Stochastik) und Statistik für Schüler und Abiturienten

Daten- und Aufgabenblätter zur Mathematik

Version 2

Essen 2019

Vorwort

Diese Sammlung aus Daten- und Aufgabenblättern geht aus einer jahrelangen Tätigkeit als Nachhilfelehrer für Oberstufenschüler und Erwachsene hervor. Die einzelnen Daten- und Aufgabenblätter wurden in einer sinnvollen Reihenfolge zusammengestellt. Zudem finden sich Rechenprogramme zu den behandelten Themen auf meiner Homepage

<http://www.michael-buhlmann.de/Mathematik/index.htm>

Die Wahrscheinlichkeitsrechnung (Stochastik) und die Statistik als Teile der schulischen Mathematik der Oberstufe und der universitären Mathematik behandeln u.a.: Zufallsexperimente, Wahrscheinlichkeitsbäume, Rechnen mit Wahrscheinlichkeiten, deskriptive Statistik, Stichproben, statistische Tests.

Essen im März 2019, *Michael Buhlmann*

Impressum:



© 2017/19 Wissenschaftlicher Selbstverlag Michael Buhlmann
Sedanstr. 35, D-45138 Essen, Deutschland
www.michael-buhlmann.de, kontakt-hp@michael-buhlmann.de

Inhalt

Datenblatt: Stochastik

Datenblatt: Wahrscheinlichkeiten

Datenblatt: Wahrscheinlichkeitsbäume

Aufgabenblatt: Zufallsexperimente, Wahrscheinlichkeitsbäume

Datenblatt: Bedingte Wahrscheinlichkeiten, Vierfeldertafeln

Aufgabenblatt: Bedingte Wahrscheinlichkeiten, Vierfeldertafeln

Datenblatt: Bernoulli-Experiment

Aufgabenblatt: Bernoulli-Experiment

Datenblatt: Statistik

Datenblatt: Signifikanztests

Aufgabenblatt: Signifikanztests

Musteraufgaben (Pflichtteil)

Musteraufgaben (Wahlteil)

Stochastik oder Wahrscheinlichkeitsrechnung ist die Beschäftigung mit Wahrscheinlichkeiten, also mit mathematischen Größen p ($0 \leq p \leq 1$, p reell), die im Rahmen von Zufallsexperimenten als Maß für die Sicherheit bzw. Unsicherheit eines Ergebnisses bzw. Ereignisses in Erscheinung treten. Zufallsexperimente (Zufallsversuche, Zufallsvorgänge) sind mathematisch modellierte Prozesse, die auf der (endlichen) Wiederholung (Mehrstufigkeit) einer gleichen festgelegten Versuchssituation (Merkmale, Versuchsausgänge) beruhen, wobei die (abzählbar-endlichen) möglichen Ergebnisse einer solchen Versuchsdurchführung ebenso wie die Ergebniswahrscheinlichkeiten (als relative Häufigkeiten [Gesetz der großen Zahlen]) bekannt sind. Zufallsexperimente lassen sich durch sog. Wahrscheinlichkeitsbäume (aus Knoten, Verzweigungen [Ausgänge, Merkmalsausprägungen], Kanten [Zweige] und Pfaden [Äste]) darstellen, die Ergebnisse und Wahrscheinlichkeiten anzeigen. Zufallsexperimente, die auf Ergebnisse mit immer derselben Wahrscheinlichkeit hinführen, heißen Laplace-Experimente. Ergebnisse sind Elementarereignisse, Ereignisse sind Zusammenfassungen von Ergebnissen (Mengenlehre der Ereignisse), die Wahrscheinlichkeit eines Ereignisses errechnet sich gemäß den Pfadregeln (Multiplikation von Wahrscheinlichkeiten innerhalb eines Pfades, Addition von Wahrscheinlichkeiten verschiedener Pfade); die Wahrscheinlichkeit aller Ergebnisse eines Zufallsexperiments stellt eine Wahrscheinlichkeitsverteilung dar; die Summe der Wahrscheinlichkeiten aller Ergebnisse ergibt das sichere Ereignis. Aus diesen Sachverhalten folgt die Axiomatik der Wahrscheinlichkeiten mit den daraus abgeleiteten Formeln des Additionssatzes und des Gegenereignisses (De Morgansche Regeln). Eine Zufallsvariable ist eine Funktion, die Ereignissen des Zufallsexperiments eine reelle Zahl zuordnet. Bzgl. der Zufallsvariablen lassen sich Aussagen zu Erwartungswert und Standardabweichung treffen.

Datenblatt: Wahrscheinlichkeiten

Ist S die Menge der Ergebnisse eines Zufallsexperiments, so stellen Teilmengen A, B, \dots von S ($A, B, \dots \subset S$) Ereignisse dar. Hinsichtlich eines Ergebnisses $a \in S$ ergibt sich als Wahrscheinlichkeit des dazugehörigen Elementarereignisses $\{a\} \subset S$ als $p(\{a\})$, die Wahrscheinlichkeit $p(A)$ eines Ereignisses A als Summe der Wahrscheinlichkeiten der Ergebnisse, die im Ereignis enthalten sind. Im Fall eines Laplace-Experiments errechnet sich die Wahrscheinlichkeit als:

$$p(A) = \frac{g}{n}$$

mit: g = Anzahl der das Ereignis A ausmachenden „günstigen“ Versuchsergebnisse, n = Anzahl aller möglichen Versuchsergebnisse. Zur Ermittlung der Anzahlen sind mitunter kombinatorische Überlegungen notwendig:

Voraussetzungen	Permutationen
n Elemente werden angeordnet, alle Elemente sind verschieden	Anzahl der Möglichkeiten: $n!$
n Elemente werden angeordnet, jeweils n_i Elemente sind gleich ($i = 1, 2, \dots, r$; $n_1 + n_2 + \dots + n_r = n$)	Anzahl der Möglichkeiten: $\frac{n!}{n_1! \cdot \dots \cdot n_r!}$
Voraussetzungen	Kombinationen
k Elemente werden aus n Elementen ausgewählt, mit Zurücklegen, mit Berücksichtigung der Reihenfolge	Anzahl der Möglichkeiten: n^k
k Elemente werden aus n Elementen ausgewählt, mit Zurücklegen, ohne Berücksichtigung der Reihenfolge	Anzahl der Möglichkeiten: $\binom{n+k-1}{k} = \frac{(n+k-1)!}{k!(n-k)!}$
k Elemente werden aus n Elementen ausgewählt, ohne Zurücklegen, mit Berücksichtigung der Reihenfolge	Anzahl der Möglichkeiten: $\binom{n}{k} \cdot k! = \frac{n!}{(n-k)!}$
k Elemente werden aus n Elementen ausgewählt, ohne Zurücklegen, ohne Berücksichtigung der Reihenfolge	Anzahl der Möglichkeiten: $\binom{n}{k} = \frac{n!}{k!(n-k)!}$
	Fakultät: $n! = 1 \cdot 2 \cdot \dots \cdot n$, $0! = 1$ Binomialkoeffizient: $\binom{n}{k} = \frac{n!}{k!(n-k)!}$ (für natürliche Zahlen k, n einschließlich 0)

Kombinatorik

Für Wahrscheinlichkeiten p und Ereignisse $A, B, \dots \subset S$ eines Zufallsexperiments gilt:

Ereignisse	Wahrscheinlichkeiten
Leeres/unmögliches Ereignis \emptyset	$p(\emptyset) = 0$
Sicheres Ereignis S	$p(S) = 1$
Ereignis A	$0 \leq p(A) \leq 1$
Ereignisse A, B disjunkt $\rightarrow A \cup B$ als Ereignis „A oder B“	$p(A \cup B) = p(A) + p(B)$
Ereignisse $A, B \rightarrow A \cup B$ als Ereignis „A oder B“, $A \cap B$ als Ereignis „A und B“	Additionssatz für Wahrscheinlichkeiten: $p(A \cup B) = p(A) + p(B) - p(A \cap B)$
Ereignisse $A, B, B \subset A \rightarrow A \setminus B$ als Ereignis „A ohne B“	$p(A \setminus B) = p(A) - p(B)$
Ereignis $A \rightarrow$ Gegenereignis $A^- = S \setminus A$ als Ereignis „nicht A“	$p(A) + p(A^-) = 1$, $p(A^-) = 1 - p(A)$

Ereignisse, Wahrscheinlichkeiten

Eine (diskrete) Zufallsvariable X ist eine reelle Abbildung zur Beschreibung eines Zufallsexperi-

ments. Sie ordnet daher den (abzählbar-endlichen) möglichen Ergebnissen des Versuchs eine reelle Zahl zu, also: $X(a_1) = x_1, X(a_2) = x_2, \dots, X(a_n) = x_n$ mit Ergebnissen a_1, a_2, \dots, a_n . Es ergibt sich die durch die Zufallsvariable abgeleitete Wahrscheinlichkeitsverteilung:

$$x_1: p(X=x_1), x_2: p(X=x_2), \dots, x_n: p(X=x_n)$$

mit $p(X=x_1)+p(X=x_2)+\dots+p(X=x_n) = 1$ und daraus der Erwartungswert

$$E(X) = \mu = x_1p(X=x_1) + x_2p(X=x_2) + \dots + x_np(X=x_n)$$

(als durchschnittlicher [mittlerer] Wert der Zufallsvariablen) sowie die Standardabweichung

$$\sigma = \sqrt{\text{Var}(X)} = \sqrt{(x_1 - \mu)^2 p(X = x_1) + (x_2 - \mu)^2 p(X = x_2) + \dots + (x_n - \mu)^2 p(X = x_n)}$$

(als Maß für die Abweichung vom Erwartungswert). Zufallsvariablen X sind durch ihren Erwartungswert μ und ihre Standardabweichung σ charakterisierbar. Aufbauend auf der Wahrscheinlichkeitsverteilung und der daraus abgeleiteten Wahrscheinlichkeitsfunktion $f(x_i) = P(X=x_i)$ ($i=1, \dots, n$) ergibt sich die Verteilungsfunktion $F(x) = p(X \leq x)$ als Summe der Wahrscheinlichkeiten der Ausprägungen der Zufallsvariablen X , die kleiner gleich einer vorgegebenen reellen Zahl x sind.

Beispiele (Wahrscheinlichkeiten):

a) Ein normaler Spielwürfel mit den Augenzahlen 1 bis 6 wird einmal geworfen. Das Zufallsexperiment ist ein Laplace-Experiment, da jedes Ergebnis dieselbe Wahrscheinlichkeit $1/6$ (Anzahl günstiger Versuchsergebnisse geteilt durch die Anzahl aller möglichen Versuchsergebnisse) hat. Ist X die Zufallsvariable, die einem Versuchsergebnis die Augenzahl zuordnet, so ist der Erwartungswert: $E(X) = (1+2+3+4+5+6) \cdot 1/6 = 3,5$, d.h. es wird durchschnittlich die Augenzahl 3,5 gewürfelt.

b) Der normale Spielwürfel mit den Augenzahlen 1 bis 6 wird zweimal geworfen. Es ergibt sich wieder ein Laplace-Experiment; jedes Ergebnis (1;1) bis (6;6) besitzt die Wahrscheinlichkeit $1/36$. Tabellarisch lässt sich der Zufallsversuch wie folgt darstellen:

1. Wurf 2. Wurf	1	2	3	4	5	6
1	(1;1)	(1;2)	(1;3)	(1;4)	(1;5)	(1;6)
2	(2;1)	(2;2)	(2;3)	(2;4)	(2;5)	(2;6)
3	(3;1)	(3;2)	(3;3)	(3;4)	(3;5)	(3;6)
4	(4;1)	(4;2)	(4;3)	(4;4)	(4;5)	(4;6)
5	(5;1)	(5;2)	(5;3)	(5;4)	(5;5)	(5;6)
6	(6;1)	(6;2)	(6;3)	(6;4)	(6;5)	(6;6)

Aus der Tabelle lassen sich nun leicht Anzahlen ermitteln, die mit $1/36$ multipliziert Wahrscheinlichkeiten ergeben. Z.B. besitzt das Ereignis, gleiche Augenzahlen zu würfeln, die Wahrscheinlichkeit: $p(\text{gleiche Augenzahl}) = 6 \cdot 1/36 = 1/6$ wegen:

1. Wurf 2. Wurf	1	2	3	4	5	6
1	(1;1)	(1;2)	(1;3)	(1;4)	(1;5)	(1;6)
2	(2;1)	(2;2)	(2;3)	(2;4)	(2;5)	(2;6)
3	(3;1)	(3;2)	(3;3)	(3;4)	(3;5)	(3;6)
4	(4;1)	(4;2)	(4;3)	(4;4)	(4;5)	(4;6)
5	(5;1)	(5;2)	(5;3)	(5;4)	(5;5)	(5;6)
6	(6;1)	(6;2)	(6;3)	(6;4)	(6;5)	(6;6)

Das Ereignis, nur gerade Augenzahlen zu werfen, bedeutet:

1. Wurf 2. Wurf	1	2	3	4	5	6
1	(1;1)	(1;2)	(1;3)	(1;4)	(1;5)	(1;6)
2	(2;1)	(2;2)	(2;3)	(2;4)	(2;5)	(2;6)
3	(3;1)	(3;2)	(3;3)	(3;4)	(3;5)	(3;6)
4	(4;1)	(4;2)	(4;3)	(4;4)	(4;5)	(4;6)
5	(5;1)	(5;2)	(5;3)	(5;4)	(5;5)	(5;6)
6	(6;1)	(6;2)	(6;3)	(6;4)	(6;5)	(6;6)

und führt auf die Wahrscheinlichkeit: $p(\text{nur gerade Augenzahlen}) = 9 \cdot 1/36 = 1/4$. Es gilt der Additionssatz für (disjunkte) Ergebnisse, Elementarereignisse, Ereignisse. Das Konzept des Gegenereignisses wird verwendet bei Betrachtung der folgenden Berechnung: $p(\text{Augensumme} > 4) = 1 - p(\text{Augensumme} \leq 4) = 1 - 6 \cdot 1/36 = 1 - 1/6 = 5/6$ auf Grund von:

1. Wurf 2. Wurf	1	2	3	4	5	6
1	(1;1)	(1;2)	(1;3)	(1;4)	(1;5)	(1;6)
2	(2;1)	(2;2)	(2;3)	(2;4)	(2;5)	(2;6)
3	(3;1)	(3;2)	(3;3)	(3;4)	(3;5)	(3;6)
4	(4;1)	(4;2)	(4;3)	(4;4)	(4;5)	(4;6)
5	(5;1)	(5;2)	(5;3)	(5;4)	(5;5)	(5;6)
6	(6;1)	(6;2)	(6;3)	(6;4)	(6;5)	(6;6)

Datenblatt: Wahrscheinlichkeitsbäume

Ein Wahrscheinlichkeitsbaum dient der grafischen Aufbereitung und Beschreibung eines n-stufigen Zufallsexperiments mit k_1, k_2, \dots Verzweigungen von Merkmalen (Ausgänge, Merkmalsausprägungen, je Stufe) (n, k_1, k_2, \dots als natürliche Zahlen) und besteht aus einer dem Zufallsversuch und dessen (kausaler) Entscheidungshierarchie entsprechenden (gerichteten) Anordnung von Knoten und Kanten.

Wahrscheinlichkeitsbaum (Merkmale: Merkmal A (Ausgänge a, c), Merkmal B (Ausgänge b, d); zweistufig):

	Merkmal A	Merkmal B	◀ Merkmale				
		$p(b)$ b	>	$p(a; b) = p(a)p(b)$	1	◀ Pfad (a;b) ◀	
	$p(a)$ a					Ereignis E: $p(A) = p(a;b) + p(c;d) = p(a)p(b) + p(c)p(d)$	
		$1-p(b)$ d	>	$p(a; d) = p(a)(1-p(b))$	2		◀ Pfad (a;d)
		$1-p(d)$ b	>	$p(c; b) = p(c)(1-p(d))$	3		◀ Pfad (c;b)
	$p(c)$ c						
		$p(d)$ d	>	$p(c; d) = p(c)p(d)$	4	◀ Pfad (c;d) ◀	
Wurzel ▲ Knoten, Kanten ▲ Blätter							
	1. Stufe	2. Stufe	Summe:	1			
▲ Wahrscheinlichkeiten, Merkmalsausprägungen							
▲ Wahrscheinlichkeitsverteilung							
▲ Ergebnisse							

Die Knoten stellen die (Zwischen-) Ergebnisse des Zufallsversuchs dar gemäß der jeweiligen Durchführung des Experiments, die Kanten sind mit den dem jeweiligen Ergebnis entsprechenden Wahrscheinlichkeiten versehen. Die Wahrscheinlichkeiten im Wahrscheinlichkeitsbaum ergeben sich aus kombinatorischen Überlegungen (Urnenmodell mit/ohne Zurücklegen u.a.). Die Summe der Wahrscheinlichkeiten an den Kanten, die von einem Knoten ausgehen, ist 1.

Die Aufeinanderfolge von Kanten zwischen dem Anfangsknoten des Wahrscheinlichkeitsbaums (Wurzel) und den Endknoten (Blättern) heißt Pfad. Für ein Ereignis A gelten hinsichtlich der das Ereignis charakterisierenden Pfade und deren Wahrscheinlichkeiten die Pfadregeln:

- Entlang eines zum Ereignis E gehörenden Pfades werden die Wahrscheinlichkeiten der Pfadkanten multipliziert. Es ergibt die Wahrscheinlichkeit des Pfades (Pfad: $O \rightarrow p(a) \rightarrow a \rightarrow p(b) \rightarrow b \dots$: $p(a;b;\dots) = p(a) \cdot p(b) \cdot \dots$).
- Die multiplizierten Wahrscheinlichkeiten von allen zum Ereignis E gehörenden Pfaden werden addiert. Es ergibt sich die Wahrscheinlichkeit des Ereignisses E (Pfade: $O \rightarrow p(a) \rightarrow a \rightarrow p(b) \rightarrow b \dots$; $O \rightarrow p(c) \rightarrow c \rightarrow p(d) \rightarrow d \dots$; \dots : $p(E) = p(a;b;\dots) + p(c;d;\dots) + \dots$).

Ein Pfad in einem Wahrscheinlichkeitsbaum stellt ein Elementarereignis dar. Die Summe der Wahrscheinlichkeiten aller Elementarereignisse ist folglich 1. Wird ein Ereignis E durch mehr Pfade charakterisiert als sein Gegenereignis E^c , so empfiehlt sich, die Wahrscheinlichkeit des Gegenereignisses zu berechnen, so dass die Formel $p(E) = 1 - p(E^c)$ zum Tragen kommt.

Je nach Fragestellung können vorgegebene Wahrscheinlichkeitsbäume umorganisiert, reduziert und „eingeklappert“ werden, indem bestimmte Merkmalsausprägungen zusammengefasst und somit die Zahl der Kanten vermindert werden. Allgemein ist zur Anzahl der Pfade in einem Wahrscheinlichkeitsbaum zu sagen, dass bei n-maligem Durchführen eines Zufallsversuchs mit gleichen k Ausgängen je Stufe die Pfadanzahl k^n beträgt; bei unterschiedlicher Anzahl von Ausgängen k_1, k_2, \dots, k_n ist die Pfadanzahl $k_1 \cdot k_2 \cdot \dots \cdot k_n$.

a) Das zweimalige Würfeln eines vierflächigen Tetraeders mit den Zahlen 1, 2, 4 und 8 ist ein zweistufiges Laplace-Experiment (mit Zurücklegen) mit dem nachstehenden Wahrscheinlichkeitsbaum:

Wahrscheinlichkeitsbaum (Ausgänge: 1, 2, 4, 8; mit Zurücklegen; 2-maliges Durchführen):

1.	2.	Versuchsdurchführung(en)			
	1/4 1	>	$p(1; 1) =$	0.0625	1
	1/4 2	>	$p(1; 2) =$	0.0625	2
1/4 1					
	1/4 4	>	$p(1; 4) =$	0.0625	3
	1/4 8	>	$p(1; 8) =$	0.0625	4
	1/4 1	>	$p(2; 1) =$	0.0625	5
	1/4 2	>	$p(2; 2) =$	0.0625	6
1/4 2					
	1/4 4	>	$p(2; 4) =$	0.0625	7
	1/4 8	>	$p(2; 8) =$	0.0625	8
	1/4 1	>	$p(4; 1) =$	0.0625	9
	1/4 2	>	$p(4; 2) =$	0.0625	10
1/4 4					
	1/4 4	>	$p(4; 4) =$	0.0625	11
	1/4 8	>	$p(4; 8) =$	0.0625	12
	1/4 1	>	$p(8; 1) =$	0.0625	13
	1/4 2	>	$p(8; 2) =$	0.0625	14
1/4 8					
	1/4 4	>	$p(8; 4) =$	0.0625	15
	1/4 8	>	$p(8; 8) =$	0.0625	16
Summe:				1	

Alle Ergebnisse (1;1) bis (8;8) des Würfelversuchs haben dieselbe Wahrscheinlichkeit $1/4 \cdot 1/4 = 1/16 = 0,0625$. Es liegt also ein Laplace-Experiment vor. Die Wahrscheinlichkeiten von Ereignissen sind Summen von Wahrscheinlichkeiten der Ergebnisse, z.B.: $p(2. \text{ Wurf} = 4) = p(1;4) + p(2;4) + p(4;4) + p(8;4) = 4 \cdot 1/16 = 1/4 = 0,25$; $p(\text{Augensumme} = 10) = p(2;8) + p(8;2) = 2 \cdot 1/16 = 1/8 = 0,125$; $p(\text{Augensumme} \leq 5) = p(1;1) + p(1;2) + p(1;4) + p(2;1) + p(2;2) + p(4;1) = 6 \cdot 1/16 = 3/8 = 0,375$. Ist X die Zufallsvariable, die einem zweimaligen Würfeln die Augensumme zuordnet, so ergibt sich die Wahrscheinlichkeitsverteilung „Augensumme -> Wahrscheinlichkeit“: 2 -> 1/16, 3 -> 1/8, 4 -> 1/16, 5 -> 1/8, 6 -> 1/8, 8 -> 1/16, 9 -> 1/8, 10 -> 1/8, 12 -> 1/8, 16 -> 1/16. Der Erwartungswert der Zufallsvariable beträgt: $E(X) = 2 \cdot 1/16 + 3 \cdot 1/8 + \dots + 16 \cdot 1/16 = 7,5$.

b) Auf einem Glücksrad gibt es drei Felder mit den Farben rot, weiß und grün, wobei die Winkel der entsprechenden Kreissegmente 120° , 90° und 150° lauten. Für dreimaliges Drehen des Glücksrads (mit Zurücklegen) ergibt sich auf Grund der Wahrscheinlichkeit der farbigen Felder:

$$p(\text{rot}) = 120/360 = 1/3 = 4/12$$

$$p(\text{weiß}) = 90/360 = 1/4 = 3/12$$

$$p(\text{grün}) = 150/360 = 5/12$$

der nachfolgende (dreistufige) Wahrscheinlichkeitsbaum (mit je drei Verzweigungen):

Wahrscheinlichkeitsbaum (Ausgänge: rot, weiß, grün; mit Zurücklegen; 3-maliges Durchführen):

1.	2.	3.	Versuchsdurchführung(en)
		4/12 rot	> $p(\text{rot; rot; rot}) = 0.037037$ 1
	4/12 rot	3/12 weiß	> $p(\text{rot; rot; weiß}) = 0.0277778$ 2
		5/12 grün	> $p(\text{rot; rot; grün}) = 0.0462963$ 3
		4/12 rot	> $p(\text{rot; weiß; rot}) = 0.0277778$ 4
4/12 rot	3/12 weiß	3/12 weiß	> $p(\text{rot; weiß; weiß}) = 0.0208333$ 5
		5/12 grün	> $p(\text{rot; weiß; grün}) = 0.0347222$ 6
		4/12 rot	> $p(\text{rot; grün; rot}) = 0.0462963$ 7
	5/12 grün	3/12 weiß	> $p(\text{rot; grün; weiß}) = 0.0347222$ 8
		5/12 grün	> $p(\text{rot; grün; grün}) = 0.0578704$ 9
		4/12 rot	> $p(\text{weiß; rot; rot}) = 0.0277778$ 10
	4/12 rot	3/12 weiß	> $p(\text{weiß; rot; weiß}) = 0.0208333$ 11
		5/12 grün	> $p(\text{weiß; rot; grün}) = 0.0347222$ 12
		4/12 rot	> $p(\text{weiß; weiß; rot}) = 0.0208333$ 13
3/12 weiß	3/12 weiß	3/12 weiß	> $p(\text{weiß; weiß; weiß}) = 0.015625$ 14
		5/12 grün	> $p(\text{weiß; weiß; grün}) = 0.0260417$ 15
		4/12 rot	> $p(\text{weiß; grün; rot}) = 0.0347222$ 16
	5/12 grün	3/12 weiß	> $p(\text{weiß; grün; weiß}) = 0.0260417$ 17
		5/12 grün	> $p(\text{weiß; grün; grün}) = 0.0434028$ 18
		4/12 rot	> $p(\text{grün; rot; rot}) = 0.0462963$ 19
	4/12 rot	3/12 weiß	> $p(\text{grün; rot; weiß}) = 0.0347222$ 20
		5/12 grün	> $p(\text{grün; rot; grün}) = 0.0578704$ 21
		4/12 rot	> $p(\text{grün; weiß; rot}) = 0.0347222$ 22
5/12 grün	3/12 weiß	3/12 weiß	> $p(\text{grün; weiß; weiß}) = 0.0260417$ 23
		5/12 grün	> $p(\text{grün; weiß; grün}) = 0.0434028$ 24
		4/12 rot	> $p(\text{grün; grün; rot}) = 0.0578704$ 25
	5/12 grün	3/12 weiß	> $p(\text{grün; grün; weiß}) = 0.0434028$ 26
		5/12 grün	> $p(\text{grün; grün; grün}) = 0.072338$ 27
			Summe: 1

c) In einer Schublade liegen 18 schwarze, 12 blaue und 8 rote Socken durcheinander. Zu berechnen ist die Wahrscheinlichkeit, dass am frühen Morgen bei Dunkelheit aus der Schublade zwei gleichfarbige Socken gezogen werden, um adäquat bekleidet zu sein.

Da bei einem zweibeinigen Menschen zwei Socken gleicher Farbe benötigt werden, liegt ein zweistufiges Zufallsexperiment ohne Zurücklegen vor. Es ergibt sich auf Grund der drei Ausgänge ein Wahrscheinlichkeitsbaum mit $3^2 = 9$ Pfaden:

Wahrscheinlichkeitsbaum (Ausgänge: schwarz, blau, rot; ohne Zurücklegen; 2-maliges Durchführen):

1.	2.	Versuchsdurchführung(en)
	17/37 schwarz	> p(schwarz; schwarz) = 0.2176387 1
18/38 schwarz	12/37 blau	> p(schwarz; blau) = 0.1536273 2
	8/37 rot	> p(schwarz; rot) = 0.1024182 3
	18/37 schwarz	> p(blau; schwarz) = 0.1536273 4
12/38 blau	11/37 blau	> p(blau; blau) = 0.0938834 5
	8/37 rot	> p(blau; rot) = 0.0682788 6
	18/37 schwarz	> p(rot; schwarz) = 0.1024182 7
8/38 rot	12/37 blau	> p(rot; blau) = 0.0682788 8
	7/37 rot	> p(rot; rot) = 0.0398293 9
	Summe:	1

Die Wahrscheinlichkeit, gleichfarbige Socken zu ziehen, errechnet sich durch Addition der Wahrscheinlichkeiten, die zu den drei Ergebnissen (schwarz; schwarz), (blau; blau) und (rot; rot) gehören, also:

$$p(\text{gleichfarbige Socken}) = p(\text{schwarz; schwarz}) + p(\text{blau; blau}) + p(\text{rot; rot}) = 18/38 \cdot 17/37 + 12/38 \cdot 11/37 + 8/38 \cdot 7/37 = 13/37.$$

Die Wahrscheinlichkeit, an den Füßen korrekt bekleidet zu sein, beträgt also ungefähr $0,351 = 35,1\%$.

d) Im Simultanschach gegen fünf Laienspieler gewinnt eine Schachgroßmeisterin mit einer Wahrscheinlichkeit 90% jeweils eine Partie. In 10% der Fälle endet die Partie mit einem Remis. Es liegt hier ein (weiter unten ausführlich zu besprechendes) Bernoulli-Experiment mit den zwei Ausgängen G (Gewinn) und Remis (R) vor. Das Experiment ist ein Zufallsversuch mit Zurücklegen, die Gewinnwahrscheinlichkeit bei jedem der fünf Schachspiele also gleich groß. Aus dem fünfstufigen Wahrscheinlichkeitsbaum lassen sich dann folgende Wahrscheinlichkeiten (Wahrscheinlichkeitsverteilung) ermitteln:

Gewinnanzahl k =	Pfadwahrscheinlichkeit	Pfadanzahl	Gesamtwahrscheinlichkeit p(k x G) =
5	0.59049	1	0.59049
4	0.06561	5	0.32805
3	0.00729	10	0.0729
2	0.00081	10	0.0081
1	0.00009	5	0.00045
0	0.00001	1	0.00001
	Summe:	32	1

Wahrscheinlichkeitsbaum: Bernoulli-Experiment mit Treffern (G) und Nichttreffern (R), Pfadlänge n = 5, Grundwahrscheinlichkeit p = 0.9, Gegenwahrscheinlichkeit q = 0.1. ►

				0.9 G	>	$p(\mathbf{G};\mathbf{G};\mathbf{G};\mathbf{G}) = 0.59049$	1
				0.9 G			
				0.1 R	>	$p(\mathbf{G};\mathbf{G};\mathbf{G};\mathbf{R}) = 0.06561$	2
				0.9 G			
				0.9 G	>	$p(\mathbf{G};\mathbf{G};\mathbf{G};\mathbf{R};\mathbf{G}) = 0.06561$	3
				0.1 R			
				0.1 R	>	$p(\mathbf{G};\mathbf{G};\mathbf{G};\mathbf{R};\mathbf{R}) = 0.00729$	4
				0.9 G			
				0.9 G	>	$p(\mathbf{G};\mathbf{G};\mathbf{R};\mathbf{G};\mathbf{G}) = 0.06561$	5
				0.9 G			
				0.1 R	>	$p(\mathbf{G};\mathbf{G};\mathbf{R};\mathbf{G};\mathbf{R}) = 0.00729$	6
				0.1 R			
				0.9 G	>	$p(\mathbf{G};\mathbf{G};\mathbf{R};\mathbf{R};\mathbf{G}) = 0.00729$	7
				0.1 R			
				0.1 R	>	$p(\mathbf{G};\mathbf{G};\mathbf{R};\mathbf{R};\mathbf{R}) = 0.00081$	8
				0.9 G			
				0.9 G	>	$p(\mathbf{G};\mathbf{R};\mathbf{G};\mathbf{G};\mathbf{G}) = 0.06561$	9
				0.9 G			
				0.1 R	>	$p(\mathbf{G};\mathbf{R};\mathbf{G};\mathbf{G};\mathbf{R}) = 0.00729$	10
				0.9 G			
				0.9 G	>	$p(\mathbf{G};\mathbf{R};\mathbf{G};\mathbf{R};\mathbf{G}) = 0.00729$	11
				0.1 R			
				0.1 R	>	$p(\mathbf{G};\mathbf{R};\mathbf{G};\mathbf{R};\mathbf{R}) = 0.00081$	12
				0.1 R			
				0.9 G	>	$p(\mathbf{G};\mathbf{R};\mathbf{R};\mathbf{G};\mathbf{G}) = 0.00729$	13
				0.9 G			
				0.1 R	>	$p(\mathbf{G};\mathbf{R};\mathbf{R};\mathbf{G};\mathbf{R}) = 0.00081$	14
				0.1 R			
				0.9 G	>	$p(\mathbf{G};\mathbf{R};\mathbf{R};\mathbf{R};\mathbf{G}) = 0.00081$	15
				0.1 R			
				0.1 R	>	$p(\mathbf{G};\mathbf{R};\mathbf{R};\mathbf{R};\mathbf{R}) = 0.00009$	16
				0.9 G	>	$p(\mathbf{R};\mathbf{G};\mathbf{G};\mathbf{G};\mathbf{G}) = 0.06561$	17
				0.9 G			
				0.1 R	>	$p(\mathbf{R};\mathbf{G};\mathbf{G};\mathbf{G};\mathbf{R}) = 0.00729$	18
				0.9 G			
				0.9 G	>	$p(\mathbf{R};\mathbf{G};\mathbf{G};\mathbf{R};\mathbf{G}) = 0.00729$	19
				0.1 R			
				0.1 R	>	$p(\mathbf{R};\mathbf{G};\mathbf{G};\mathbf{R};\mathbf{R}) = 0.00081$	20
				0.9 G			
				0.9 G	>	$p(\mathbf{R};\mathbf{G};\mathbf{R};\mathbf{G};\mathbf{G}) = 0.00729$	21
				0.9 G			
				0.1 R	>	$p(\mathbf{R};\mathbf{G};\mathbf{R};\mathbf{G};\mathbf{R}) = 0.00081$	22
				0.1 R			
				0.9 G	>	$p(\mathbf{R};\mathbf{G};\mathbf{R};\mathbf{R};\mathbf{G}) = 0.00081$	23
				0.1 R			
				0.1 R	>	$p(\mathbf{R};\mathbf{G};\mathbf{R};\mathbf{R};\mathbf{R}) = 0.00009$	24
				0.1 R			
				0.9 G	>	$p(\mathbf{R};\mathbf{R};\mathbf{G};\mathbf{G};\mathbf{G}) = 0.00729$	25
				0.9 G			
				0.1 R	>	$p(\mathbf{R};\mathbf{R};\mathbf{G};\mathbf{G};\mathbf{R}) = 0.00081$	26
				0.9 G			
				0.9 G	>	$p(\mathbf{R};\mathbf{R};\mathbf{G};\mathbf{R};\mathbf{G}) = 0.00081$	27
				0.1 R			
				0.1 R	>	$p(\mathbf{R};\mathbf{R};\mathbf{G};\mathbf{R};\mathbf{R}) = 0.00009$	28
				0.1 R			
				0.9 G	>	$p(\mathbf{R};\mathbf{R};\mathbf{R};\mathbf{G};\mathbf{G}) = 0.00081$	29
				0.9 G			
				0.1 R	>	$p(\mathbf{R};\mathbf{R};\mathbf{R};\mathbf{G};\mathbf{R}) = 0.00009$	30
				0.1 R			
				0.9 G	>	$p(\mathbf{R};\mathbf{R};\mathbf{R};\mathbf{R};\mathbf{G}) = 0.00009$	31
				0.9 G			
				0.1 R			
				0.1 R	>	$p(\mathbf{R};\mathbf{R};\mathbf{R};\mathbf{R};\mathbf{R}) = 0.00001$	32

e) Gemäß dem Urnenmodell befinden sich in einem Behälter 12 weiße und 8 schwarze Kugeln. Das erste Zufallsexperiment besteht darin, drei Kugeln mit Zurücklegen aus dem Behälter zu ziehen. Bei einem zweiten Zufallsversuch geschieht das Gleiche nur ohne Zurücklegen. Die nachstehenden Wahrscheinlichkeitsbäume lassen die Unterschiede in den Wahrscheinlichkeitsverteilungen der jeweils $2^3 = 8$ Ergebnisse (w;w) bis (s;s) gut erkennen.

Wahrscheinlichkeitsbaum (Ausgänge: w, s; mit Zurücklegen; 3-maliges Durchführen):

1.	2.	3.	Versuchsdurchführung(en)
		12/20 w	> $p(w; w; w) = 0.216$ 1
	12/20 w		
		8/20 s	> $p(w; w; s) = 0.144$ 2
	12/20 w		
		12/20 w	> $p(w; s; w) = 0.144$ 3
	8/20 s		
		8/20 s	> $p(w; s; s) = 0.096$ 4
		12/20 w	> $p(s; w; w) = 0.144$ 5
	12/20 w		
		8/20 s	> $p(s; w; s) = 0.096$ 6
	8/20 s		
		12/20 w	> $p(s; s; w) = 0.096$ 7
	8/20 s		
		8/20 s	> $p(s; s; s) = 0.064$ 8
Summe:			1

Wahrscheinlichkeitsbaum (Ausgänge: w, s; ohne Zurücklegen; 3-maliges Durchführen):

1.	2.	3.	Versuchsdurchführung(en)
		10/18 w	> $p(w; w; w) = 0.1929825$ 1
	11/19 w		
		8/18 s	> $p(w; w; s) = 0.154386$ 2
	12/20 w		
		11/18 w	> $p(w; s; w) = 0.154386$ 3
	8/19 s		
		7/18 s	> $p(w; s; s) = 0.0982456$ 4
		11/18 w	> $p(s; w; w) = 0.154386$ 5
	12/19 w		
		7/18 s	> $p(s; w; s) = 0.0982456$ 6
	8/20 s		
		12/18 w	> $p(s; s; w) = 0.0982456$ 7
	7/19 s		
		6/18 s	> $p(s; s; s) = 0.0491228$ 8
Summe:			1

f) Werden aus einer Urne mit 5 blauen, 8 roten und 12 grünen Kugeln zwei Kugeln ohne Zurücklegen gezogen, so berechnen sich die Wahrscheinlichkeiten:

$$p(0 \times \text{rot}) = 17/25 \cdot 16/24 = 34/75 = 0,4533$$

$$p(1 \times \text{rot}) = 8/25 \cdot 17/24 + 17/25 \cdot 8/24 = 34/75 = 0,4533$$

schneller, wenn aus einem zweistufigen Wahrscheinlichkeitsbaum mit den Ausgängen blau, rot, grün durch „Einklappen“ ein Wahrscheinlichkeitsbaum mit den Ausgängen rot, blau/grün (als nicht rot) entsteht.

Wahrscheinlichkeitsbaum (Ausgänge: b, r, g; ohne Zurücklegen; 2-maliges Durchführen):

1.	2.	Versuchsdurchführung(en)
	4/24 b	> $p(b; b) = 0.0333333$ 1
	5/25 b	8/24 r > $p(b; r) = 0.0666667$ 2
	12/24 g	> $p(b; g) = 0.1$ 3
	5/24 b	> $p(r; b) = 0.0666667$ 4
	8/25 r	7/24 r > $p(r; r) = 0.0933333$ 5
	12/24 g	> $p(r; g) = 0.16$ 6
	5/24 b	> $p(g; b) = 0.1$ 7
	12/25 g	8/24 r > $p(g; r) = 0.16$ 8
	11/24 g	> $p(g; g) = 0.22$ 9
Summe:		1

Wahrscheinlichkeitsbaum (Ausgänge: r, b/g; ohne Zurücklegen; 2-maliges Durchführen):

1.	2.	Versuchsdurchführung(en)
	7/24 r	> $p(r; r) = 0.0933333$ 1
	8/25 r	17/24 b/g > $p(r; b/g) = 0.2266667$ 2
	8/24 r	> $p(b/g; r) = 0.2266667$ 3
	17/25 b/g	16/24 b/g > $p(b/g; b/g) = 0.4533333$ 4
Summe:		1

g) Ein Zufallsexperiment beinhaltet folgende Vorgehensweise: Zunächst wählt der Experimentator zufällig von zwei Behältern einen aus. Dem ausgewählten Behälter entnimmt er eine Kugel und notiert die Farbe. – Im 1. Behälter befinden sich 40 Kugeln, davon sind 25 rot, 10 weiß, der Rest schwarz. Der 2. Behälter enthält 10 rote und 10 weiße und 30 schwarze Kugeln. Gemäß dem Wahrscheinlichkeitsbaum:

Wahrscheinlichkeitsbaum (Ereignisse: Auswahl/Urne (Ausgänge Urne 1, Urne 2), Ziehen/Kugel (Ausgänge rot, weiß, schwarz); zweistufig):

Auswahl/Urne	Ziehen/Kugel	(zweistufig)
	0.625 rot	$p(\text{Urne 1; rot}) = 0.3125$ 1
0.5 Urne 1	0.25 weiß	$p(\text{Urne 1; weiß}) = 0.125$ 2
	0.125 schwarz	$p(\text{Urne 1; schwarz}) = 0.0625$ 3
	0.2 rot	$p(\text{Urne 2; rot}) = 0.1$ 4
0.5 Urne 2	0.2 weiß	$p(\text{Urne 2; weiß}) = 0.1$ 5
	0.6 schwarz	$p(\text{Urne 2; schwarz}) = 0.3$ 6
	Summe:	1

errechnen sich die jeweiligen Wahrscheinlichkeiten, dass die gezogene Kugel eine bestimmte Farbe hat, als:

$$p(\text{gezogene Kugel ist rot}) = p(\text{Urne 1; rot}) + p(\text{Urne 2; rot}) = 0,3125 + 0,1 = 0,4125$$

$$p(\text{gezogene Kugel ist weiß}) = p(\text{Urne 1; weiß}) + p(\text{Urne 2; weiß}) = 0,125 + 0,1 = 0,225$$

$$p(\text{gezogene Kugel ist schwarz}) = p(\text{Urne 1; schwarz}) + p(\text{Urne 2; schwarz}) = 0,0625 + 0,3 = 0,3625.$$

Aufgabenblatt: Zufallsexperimente, Wahrscheinlichkeitsbäume

1. In einer Urne befinden sich 12 weiße, 8 blaue und 5 schwarze Kugeln. Wie groß sind die Wahrscheinlichkeiten, eine weiße, eine blaue oder eine schwarze Kugel zu ziehen? Wie groß ist die Wahrscheinlichkeit, eine weiße oder eine blaue Kugel zu ziehen? Wie groß ist die Wahrscheinlichkeit, keine weiße Kugel zu ziehen?

2. a) In einer Urne befinden sich 20 weiße und 5 schwarze Kugeln. Es werden zwei Kugeln mit Zurücklegen gezogen. Wie groß sind die Wahrscheinlichkeiten für die folgenden Ereignisse:

A: Die zuerst gezogene Kugel ist weiß. / B: Die als zweite gezogene Kugel ist schwarz.

C: Beide gezogenen Kugeln sind weiß. / D: Beide gezogenen Kugeln sind schwarz.

E: Es wurde eine weiße und eine schwarze Kugel gezogen.

b) In einer Urne befinden sich 20 weiße und 5 schwarze Kugeln. Es werden zwei Kugeln ohne Zurücklegen gezogen. Wie groß sind die Wahrscheinlichkeiten für die folgenden Ereignisse:

A: Die zuerst gezogene Kugel ist weiß. / B: Die als zweite gezogene Kugel ist schwarz.

C: Beide gezogenen Kugeln sind weiß. / D: Beide gezogenen Kugeln sind schwarz.

E: Es wurde eine weiße und eine schwarze Kugel gezogen.

3. In der Urne U_1 befinden sich 5 rote und 3 gelbe Kugeln, in der Urne U_2 sind 2 rote und 5 gelbe Kugeln. Es wird zufällig eine Urne ausgewählt und daraus eine Kugel. Mit welcher Wahrscheinlichkeit ist diese Kugel rot, mit welcher Wahrscheinlichkeit gelb?

4. Eine Urne enthält 6 rote und 4 schwarze Kugeln. Es wird dreimal a) mit Zurücklegen, b) ohne Zurücklegen gezogen. X sei die Zufallsvariable, die die Anzahl der gezogenen roten Kugeln zählt. Wie groß ist der Erwartungswert?

5. An einem Schlüsselbund befinden sich fünf Schlüssel. Nur einer davon passt in ein Schloss. Zeichne einen Wahrscheinlichkeitsbaum, wenn der Aufschließende darauf achtet, welchen Schlüssel er probiert hat. Nach wie viel Versuchen passt im Durchschnitt ein Schlüssel ins Schloss?

6. Ein Glücksrad mit den Farben rot (50%), grün (40%) und weiß (10%) wird zweimal gedreht.

a) Zeichne ein Baumdiagramm.

b) Bei einem Einsatz von 1,- € gewinnt ein Spieler 5,- € bei zweimal „weiß“, 2,- € bei einmal „weiß“ pro Spiel? Ist das Spiel fair?

c) Wie hoch muss der Einsatz sein, damit das Spiel fair ist?

d) Wie hoch muss der Gewinn für zweimal „weiß“ sein, damit bei einem Einsatz von 0,80 € das Spiel fair ist?

7. Drei Würfel werden geworfen. Ein Spieler erhält bei einem Einsatz von einem € 1,- beim Würfeln von drei Sechsen € 5,-, beim Würfeln von zwei Sechsen € 3,- und beim Würfeln einer Sechsen 1,- €. Mit welchem Gewinn/Verlust kann der Spieler durchschnittlich rechnen? Wie viel muss der Spieler beim Würfeln von drei Sechsen gewinnen, damit das Spiel fair ist? Wie oft muss der Spieler die drei Würfel werfen, damit er mit einer Wahrscheinlichkeit von mehr als 90% mindestens einmal drei Sechsen erhält?

8. Die 1-€-Münze zeigt beim Werfen mit einer Wahrscheinlichkeit von 55% Wappen an. Die Münze wird in einem Spiel dreimal geworfen.

a) Zeichne ein Baumdiagramm.

b) X ist die Zufallsvariable, die die Trefferanzahl „Wappen“ zählt. Bestimme die Häufigkeitsverteilung der Zufallsvariablen und berechne den Erwartungswert.

c) X ist die Zufallsvariable, die dreimal „Wappen“ 2,- €, zweimal „Wappen“ 1,- € als Gewinn zuordnet, wenn der Einsatz pro Spiel 0,50 € beträgt. Bestimme die Häufigkeitsverteilung der Zufallsvariablen und berechne den Erwartungswert. Mit welchem Gewinn/Verlust hat der Spieler bei zehn Spielen zu rechnen?

9. Eine Urne enthält 8 rote und 12 schwarze Kugeln. Es wird dreimal gezogen, wobei eine schwarze Kugel zurückgelegt wird, eine rote aber nicht. Bei einem Einsatz von 2,- € wird folgendes Spiel gespielt: Wird dreimal „rot“ gezogen, so gewinnt der Spieler 5,- €; endet ansonsten das Spiel mit dem Ziehen einer roten Kugel, so gewinnt der Spieler 3,- €, wenn er zweimal „rot“ gezogen hat, 1,- €, wenn er einmal „rot“ gezogen hat.
- Zeichne ein Baumdiagramm.
 - Berechne den durchschnittlichen Gewinn/Verlust für den Spieler.

Datenblatt: Bedingte Wahrscheinlichkeiten, Vierfeldertafeln

Gegeben sei der folgende zweistufige Wahrscheinlichkeitsbaum mit je zwei Ausgängen für die zwei Merkmale:

Wahrscheinlichkeitsbaum (Merkmale: Merkmal 1 (Ausgänge A, A⁻), Merkmal 2 (Ausgänge B, B⁻); zweistufig):

	1. Merkmal	2. Merkmal		
		$p_A(B)$ B	>	$p(A; B) = p(A \cap B)$ 1
	$p(A)$ A			
		$p_A(B^-)$ B ⁻	>	$p(A; B^-) = p(A \cap B^-)$ 2
		$p_{A^-}(B)$ B	>	$p(A^-; B) = p(A^- \cap B)$ 3
	$p(A^-)$ A ⁻			
		$p_{A^-}(B^-)$ B ⁻	>	$p(A^-; B^-) = p(A^- \cap B^-)$ 4
		Summe:		1

Gemäß dem Wahrscheinlichkeitsbaum ermitteln sich die bedingten Wahrscheinlichkeiten, d.h. die Wahrscheinlichkeiten, bei denen das bedingende Ereignis „herausgerechnet“ wurde, bei Bedingung A und Ereignis B als:

$$p_A(B) = \frac{p(A \cap B)}{p(A)}.$$

Es gilt noch: $p(A \cap B) = p(A) \cdot p_A(B)$. Hat das bedingende Ereignis A keinen Einfluss auf das Ereignis B, ist also: $p_A(B) = p(B)$, so gilt: $p(A \cap B) = p(A) \cdot p(B)$ und damit die stochastische Unabhängigkeit der Ereignisse sowie $p(A \cap B) \neq p(A) \cdot p(B)$ bei stochastischer Abhängigkeit.

Aus obigem Wahrscheinlichkeitsbaum ergibt sich zudem die Vierfeldertafel (der Wahrscheinlichkeiten):

	B	B ⁻	
A	$p(A \cap B)$	$p(A \cap B^-)$	$p(A)$
A ⁻	$p(A^- \cap B)$	$p(A^- \cap B^-)$	$p(A^-)$
	$p(B)$	$p(B^-)$	1

die auch auf absolute Häufigkeiten zu beziehen ist:

	B	B ⁻	
A	n_{11}	n_{12}	n_A
A ⁻	n_{21}	n_{22}	$n - n_A$
	n_B	$n - n_B$	n

oder um die bedingten Wahrscheinlichkeiten ergänzt werden kann:

	B	B'				
A	$p(A \cap B)$	$p(A \cap B')$	$p(A)$	$p_A(B)$	$p_A(B')$	1
A'	$p(A' \cap B)$	$p(A' \cap B')$	$p(A')$	$p_{A'}(B)$	$p_{A'}(B')$	1
	$p(B)$	$p(B')$	1			
	$p_B(A)$	$p_{B'}(A)$				
	$p_B(A')$	$p_{B'}(A')$				
	1	1				

In der Vierfeldertafel berechnen sich die bedingten Wahrscheinlichkeiten nach folgendem Schema:

	B	B'				
A	$p(A \cap B)$ $\left \begin{array}{l} \downarrow \\ \downarrow \end{array} \right.$	$p(A \cap B')$ $\left \begin{array}{l} \downarrow \\ \downarrow \end{array} \right.$	$p(A)$ $\left[\begin{array}{l} \leftarrow \\ \leftarrow \end{array} \right]$	$p_A(B) = p(A \cap B) : p(A)$ $\left[\begin{array}{l} \leftarrow \\ \leftarrow \end{array} \right]$	$p_A(B') = p(A \cap B') : p(A)$ $\left[\begin{array}{l} \leftarrow \\ \leftarrow \end{array} \right]$	1
A'	$p(A' \cap B)$ $\left \begin{array}{l} \downarrow \\ \downarrow \end{array} \right.$	$p(A' \cap B')$ $\left \begin{array}{l} \downarrow \\ \downarrow \end{array} \right.$	$p(A')$ $\left[\begin{array}{l} \leftarrow \\ \leftarrow \end{array} \right]$	$p_{A'}(B) = p(A' \cap B) : p(A')$ $\left[\begin{array}{l} \leftarrow \\ \leftarrow \end{array} \right]$	$p_{A'}(B') = p(A' \cap B') : p(A')$ $\left[\begin{array}{l} \leftarrow \\ \leftarrow \end{array} \right]$	1
	$p(B)$ $\left[\begin{array}{l} \leftarrow \\ \leftarrow \end{array} \right]$	$p(B')$ $\left[\begin{array}{l} \leftarrow \\ \leftarrow \end{array} \right]$	1			
	$p_B(A) = p(A \cap B) : p(B)$ $\left[\begin{array}{l} \leftarrow \\ \leftarrow \end{array} \right]$	$p_{B'}(A) = p(A \cap B') : p(B')$ $\left[\begin{array}{l} \leftarrow \\ \leftarrow \end{array} \right]$				
	$p_B(A') = p(A' \cap B) : p(B)$ $\left[\begin{array}{l} \leftarrow \\ \leftarrow \end{array} \right]$	$p_{B'}(A') = p(A' \cap B') : p(B')$ $\left[\begin{array}{l} \leftarrow \\ \leftarrow \end{array} \right]$				
	1	1				

Beispiel (Vierfeldertafel, bedingte Wahrscheinlichkeiten):

Gegeben ist die folgende im Sinne der Wahrscheinlichkeitsrechnung zu modellierende Situation: Unter den Kunden eines Kaufhauses befinden sich ungefähr 1% Diebe, der Dieb von Waren wird durch Kaufhausdetektive oder elektronische Hilfsmittel in 55% der Fälle entdeckt. Umgekehrt geraten 0,5% der ehrlichen Kunden in den Verdacht, einen Diebstahl begangen zu haben.

Es ergibt sich zunächst der nachfolgende Wahrscheinlichkeitsbaum mit den Merkmalen „Kunde“ und „Ermittlung“ und den Merkmalsausprägungen „kein Dieb“ – „Dieb“ und „(als Dieb) beschuldigt“ – „nicht (als Dieb) beschuldigt“:

Wahrscheinlichkeitsbaum (Merkmale: Kunde (Ausgänge kein Dieb, Dieb), Ermittlung (Ausgänge beschuldigt, nicht beschuldigt); zwei-stufig):

Kunde	Ermittlung	Merkmale	
	0.005 beschuldigt	> $p(\text{kein Dieb; beschuldigt}) =$	0.00495 1
0.99 kein Dieb			
	0.995 nicht beschuldigt	> $p(\text{kein Dieb; nicht beschuldigt}) =$	0.98505 2
	0.55 beschuldigt	> $p(\text{Dieb; beschuldigt}) =$	0.0055 3
0.01 Dieb			
	0.45 nicht beschuldigt	> $p(\text{Dieb; nicht beschuldigt}) =$	0.0045 4
	Summe:		1

Bezogen auf insgesamt 20000 Kunden, die das Kaufhaus in einer Zeitperiode besuchen ergibt sich die Vierfeldertafel der Anzahlen von ehrlichen Kunden und Dieben, Beschuldigungen und Nichtbeschuldigungen:

Vierfeldertafel (Anzahlen; Merkmale: Kunde (Ausgänge kein Dieb, Dieb), Ermittlung (Ausgänge beschuldigt, nicht beschuldigt)):

Kunde Ermittlung	beschuldigt	nicht beschuldigt	
kein Dieb	99	19701	19800
Dieb	110	90	200
	209	19791	20000

Bezogen auf die Wahrscheinlichkeiten lautet die Vierfeldertafel:

Vierfeldertafel (Wahrscheinlichkeiten; Merkmale: Kunde (Ausgänge kein Dieb, Dieb), Ermittlung (Ausgänge beschuldigt, nicht beschuldigt)):

Kunde Ermittlung	beschuldigt	nicht beschuldigt	
kein Dieb	0.00495	0.98505	0.99
Dieb	0.0055	0.0045	0.01
	0.01045	0.98955	1

Als bedingte Wahrscheinlichkeiten ergeben sich durch entsprechende Division innerhalb der Vierfeldertafel:

Vierfeldertafel (Bedingte Wahrscheinlichkeiten; Merkmale: Kunde (Ausgänge kein Dieb, Dieb), Ermittlung (Ausgänge beschuldigt, nicht beschuldigt)):

Kunde Ermittlung	beschuldigt	nicht beschuldigt				
kein Dieb	0.00495	0.98505	0.99	0.005	0.995	1
Dieb	0.0055	0.0045	0.01	0.55	0.45	1
	0.01045	0.98955	1			
	0.473684	0.995452				
	0.526316	0.004548				
	1	1				

Insgesamt werden also 0,55% der Kunden als Diebe überführt ($p(\text{Dieb} \cap \text{beschuldigt})$), während das Kaufhaus 1,045% der Kunden als Diebe beschuldigt ($p(\text{beschuldigt}) = p(\text{kein Dieb} \cap \text{beschuldigt}) + p(\text{Dieb} \cap \text{beschuldigt})$). Von den Kunden, die des Diebstahls verdächtigt werden, sind 47,37% ehrlich ($p_{\text{beschuldigt}}(\text{kein Dieb})$); umgekehrt sind 99,55% von denen, die nicht als Diebe angesehen werden, ehrlich ($p_{\text{nicht beschuldigt}}(\text{kein Dieb})$) (gerundete Prozentsätze).

Aufgabenblatt: Bedingte Wahrscheinlichkeiten, Vierfeldertafeln

1. Ein Glücksrad besteht aus den Feldern „blau“ (120°), „rot“ (180°) und „gelb“ (60°). Das Glücksrad wird dreimal gedreht.

a) Berechne die Wahrscheinlichkeiten der folgenden Ereignisse:

A: Beim 2. Drehen erscheint „blau“.

B: Es erscheinen nur gleiche Farben.

C: Genau zwei Farben sind gleich.

D: Es erscheint beim 3. Drehen „rot“, wenn zuvor zweimal „blau“ gedreht wurde.

E: Es erscheint zweimal „gelb“ unter der Voraussetzung, dass beim 1. Drehen nicht „gelb“ auftritt.

b) Beim „Glücksrad-Spiel“ zahlt ein Spieler für dreimaliges Drehen des Glücksrads einen Einsatz von € 1,-. Er gewinnt, wenn alle Farben gleich sind, € 10,-, wenn alle Farben „gelb“ sind, € 20,-. Ist das Glücksspiel fair?

2. In einer Schachtel befinden sich 2 gelbe, 4 blaue und 5 rote Kugeln. Es werden zwei Kugeln nacheinander gezogen, wobei eine rote Kugel wieder zurückgelegt wird, eine gelbe oder blaue hingegen nicht.

a) Zeichne ein Baumdiagramm!

b) Wie groß ist die Wahrscheinlichkeit, dass

A: die zweite gezogene Kugel gelb ist, / B: die zweite gezogene Kugel rot ist,

C: die zweite gezogene Kugel blau ist, falls beim ersten Zug eine rote Kugel gezogen wurde,

D: die zweite gezogene Kugel blau ist, falls beim ersten Zug keine blaue Kugel gezogen wurde,

E: die zweite gezogene Kugel blau ist, falls beim ersten Zug eine blaue oder rote Kugel gezogen wurde.

c) Drei Kugeln werden mit einem Griff aus der Schachtel entnommen. Wie groß ist die Wahrscheinlichkeit, dass alle drei Kugeln verschiedene Farben haben?

3. Ergänze die nachstehende Vierfeldertafel:

	A	nicht A	
B	100		350
nicht B			650
		400	

Berechne die folgenden Wahrscheinlichkeiten:

a) $p(A^c)$, b) $p(A \cap B)$, c) $p(A \cup B)$, d) $p(A \cap B^c)$, e) $p(A^c \cup B^c)$

4. Eine Krankheit tritt in einer Tierpopulation mit einer Wahrscheinlichkeit von 0,5% auf. Ein Test an den Tieren kann die Krankheit bei erkrankten Tieren zu 95% erkennen, zeigt allerdings bei gesunden Tieren fälschlicherweise zu 0,2% eine Erkrankung an.

a) Stelle einen Wahrscheinlichkeitsbaum auf!

b) Stelle eine geeignete Vierfeldertafel auf!

c) Berechne die Wahrscheinlichkeiten für die folgenden Ereignisse:

A: Ein Tier ist nicht erkrankt.

B: Ein Tier wird als erkrankt (positiv) getestet.

C: Ein gesundes Tier wird positiv getestet.

D: Ein positiv getestetes Tier ist krank.

E: Ein negativ getestetes Tier ist gesund.

5. 100 Schülerinnen und Schüler (M, J) werden befragt, ob sie sich für gut oder schlecht im Fach Mathematik halten (G, S). Ergänze die nachstehende Vierfeldertafel:

	M	J	
G	28	20	
S		24	

Wie groß ist die Wahrscheinlichkeit,

- dass sich Schülerinnen für schlecht in Mathematik halten?
- dass sich Schülerinnen oder Schüler für gut in Mathematik halten?
- dass sich Schüler für gut in Mathematik halten?
- dass Schüler, die sich für schlecht in Mathematik halten, Jungen sind?
- dass Schüler, die sich für gut in Mathematik halten, Mädchen sind?

Untersuche, ob die Merkmale „Geschlecht“ und „Mathematik“ stochastisch unabhängig sind.

6. Ein Test T auf eine Krankheit K, die mit einer Wahrscheinlichkeit von 5% auftritt, bewirkt, dass von den Erkrankten nur 92% als positiv erkannt werden, während der Test insgesamt bei 6,5% der Untersuchten ein positives Ergebnis zeigt.

- Zeichne den Wahrscheinlichkeitsbaum und berechne die fehlenden Wahrscheinlichkeiten.
- Wie groß ist die Wahrscheinlichkeit, krank zu sein, wenn man negativ getestet wurde? Wie groß ist die Wahrscheinlichkeit, gesund zu sein, wenn man positiv getestet wurde?
- Die Krankheit hat zwei verschiedene Ursachen A und B. 4% aller Personen sind aufgrund der Ursache A erkrankt, 2% wegen der Ursache B. Sind die Ursachen stochastisch unabhängig?

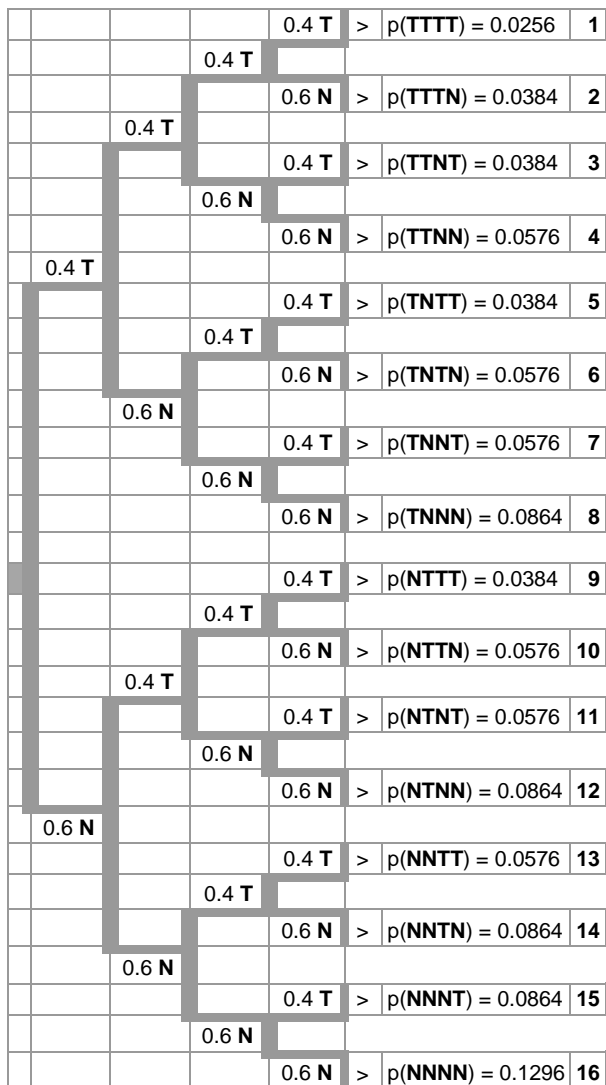
7. Beim Zoll schmuggeln erfahrungsgemäß 2% der Einreisenden Rauschgift.

- Der Zollhund bellt dann in 90% der Fälle, während er sonst in 1% der Kontrollen bellt. Mit welcher Wahrscheinlichkeit bellt der Zollhund? Mit welcher Wahrscheinlichkeit wird ein Schmuggler erwischt? Mit welcher Wahrscheinlichkeit wird ein Schmuggler erwischt, wenn der Zollhund bellt? Mit welcher Wahrscheinlichkeit ist der Einreisende kein Schmuggler, wenn der Zollhund bellt?
- Es werden 1000 Personen kontrolliert. Wie groß ist die Wahrscheinlichkeit, dass es unter diesen höchstens einen Schmuggler gibt?
- Wie viel Kontrollen müssen durchgeführt werden, damit mit einer Wahrscheinlichkeit von mindestens 95% ein Schmuggler erwischt wird?

Datenblatt: Bernoulli-Experiment

Ein Bernoulli-Experiment ist ein Zufallsexperiment mit zwei Ausgängen (T = Treffer, N = Nichttreffer), der Grundwahrscheinlichkeit p als Trefferwahrscheinlichkeit, der Anzahl n der Experimentwiederholung „mit Zurücklegen“. Die Zufallsvariable X gibt die Anzahl der Treffer bei n -maliger Wiederholung des Experiments an:

Wahrscheinlichkeitsbaum:



Trefferwahrscheinlichkeiten:

Trefferanzahl $k =$	Pfadwahrscheinlichkeit	Pfadanzahl	Gesamtwahrscheinlichkeit $p(X=k) =$
4	0.0256	1	0.0256
3	0.0384	4	0.1536
2	0.0576	6	0.3456
1	0.0864	4	0.3456
0	0.1296	1	0.1296
	Summe	16	1
		Erwartungswert	1.6
		Standardabweichung	0.9798
	Binomialverteilung	B(4,0.4)	

Es gelten auf Grund der Pfadregeln für Wahrscheinlichkeitsbäume (Multiplikation der Wahrscheinlichkeiten entlang eines Pfades, Addition der [multiplizierten] Wahrscheinlichkeiten verschiedener Pfade) die Trefferwahrscheinlichkeiten der Bernoulli-Formel:

$$p(X = k) = \binom{n}{k} p^k (1 - p)^{n-k}$$

Bernoulli-Formel

mit den Binomialkoeffizienten $\binom{n}{k} = \frac{n(n-1)(n-2) \cdot \dots \cdot (n-k+1)}{1 \cdot 2 \cdot \dots \cdot k} = \frac{n!}{k!(n-k)!}$ (als Anzahl der Pfade mit gleicher Wahrscheinlichkeit $p^k(1-p)^{n-k}$) und weiter:

$$\begin{aligned}
 p(X=0) &= (1-p)^n \\
 p(X=n) &= p^n \\
 p(X \leq k) &= p(X=0) + p(X=1) + \dots + p(X=k) = 1 - p(X > k)
 \end{aligned}$$

$$\begin{aligned}
p(X < k) &= p(X \leq k-1) = 1 - p(X \geq k) \\
p(X \geq k) &= 1 - p(X \leq k-1) \\
p(X > k) &= p(X \geq k+1) = 1 - p(X \leq k) \\
p(k_1 \leq X \leq k_2) &= p(X=k_1) + \dots + p(X=k_2) = p(X \leq k_2) - p(X \leq k_1-1) \\
p(k_1 < X \leq k_2) &= p(X=k_1+1) + \dots + p(X=k_2) = p(X \leq k_2) - p(X \leq k_1) \\
p(k_1 \leq X < k_2) &= p(X=k_1) + \dots + p(X=k_2-1) = p(X \leq k_2-1) - p(X \leq k_1-1) \\
p(k_1 < X < k_2) &= p(X=k_1+1) + \dots + p(X=k_2-1) = p(X \leq k_2-1) - p(X \leq k_1)
\end{aligned}$$

Rechenregeln für Bernoulli-Wahrscheinlichkeiten

Es gelten die „Übersetzungen“: \leq : höchstens, \geq : mindestens, wenigstens, $<$: weniger als, $>$: mehr als. Es gilt weiter hinsichtlich des Erwartungswerts $E(X)$ beim Bernoulli-Experiment:

$$E(X) = \mu = np.$$

Hinsichtlich der Standardabweichung σ beim Bernoulli-Experiment folgt:

$$\sigma = \sqrt{np(1-p)}.$$

Es gelten dann die sog. σ -Regeln für die 1σ -, 2σ - und 3σ -Intervalle der Binomialverteilung:

$$\begin{aligned}
p(\mu - \sigma \leq X \leq \mu + \sigma) &\approx 68,27\% \text{ (1}\sigma\text{-Intervall)} \\
p(\mu - 2\sigma \leq X \leq \mu + 2\sigma) &\approx 95,45\% \text{ (2}\sigma\text{-Intervall)} \\
p(\mu - 3\sigma \leq X \leq \mu + 3\sigma) &\approx 99,73\% \text{ (3}\sigma\text{-Intervall)},
\end{aligned}$$

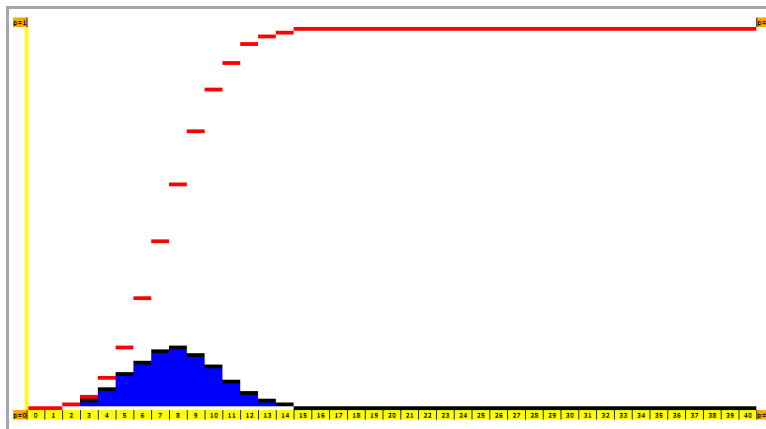
d.h.: ungefähr mit 68,27%, 95,45% und 99,73% Wahrscheinlichkeit liegt die Anzahl der Treffer in den entsprechenden σ -Intervallen.

Aus dem Bernoulli-Experiment ergibt sich die Binomialverteilung $B(n,p)$ für die Zufallsvariable X der Trefferanzahl mit:

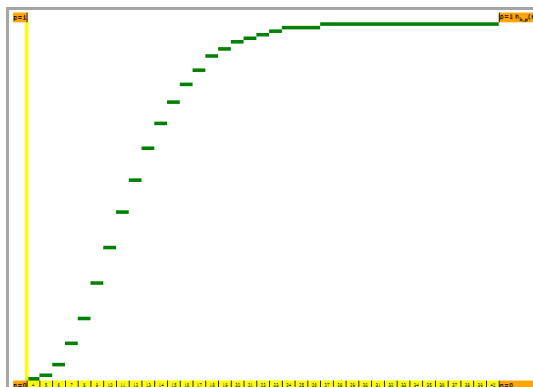
$$B(n, p, k) = \binom{n}{k} p^k (1-p)^{n-k}.$$

Der Ausdruck $B(n,p,k)$ kann dann wie folgt ausgewertet werden:

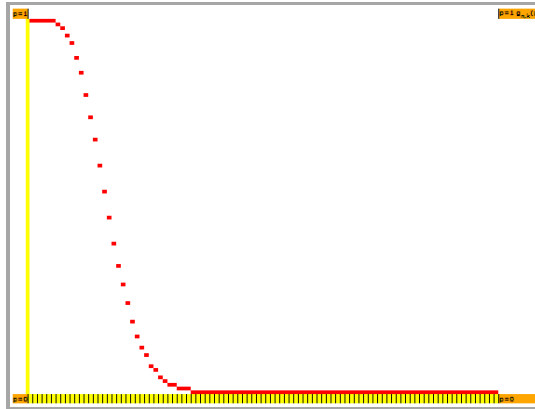
a) Trefferwahrscheinlichkeiten bei festem n und p : Funktionen $f(k) = p(X=k)$, $g(k) = p(X \leq k)$:



b) Trefferwahrscheinlichkeiten bei festem k und p : Funktionen $f(n) = p(X > k) = 1 - p(X \leq k)$ u.ä.:



c) Trefferwahrscheinlichkeiten bei festem n und k: Funktionen $f(p) = p(X \leq k)$ u.ä.:



Beispiel (Bernoulli-Experiment):

Bei einem Glücksrad machen die Gewinnfelder 10% der Radfläche aus. Das Glücksrad wird viermal gedreht. Als Wahrscheinlichkeitsbaum ergibt sich:

Wahrscheinlichkeitsbaum (G = Gewinn, N = Niete):

			0.1 G	>	$p(\mathbf{G;G;G;G}) = 0.0001$	1
			0.1 G			
			0.9 N	>	$p(\mathbf{G;G;G;N}) = 0.0009$	2
			0.1 G			
			0.1 G	>	$p(\mathbf{G;G;N;G}) = 0.0009$	3
			0.9 N			
			0.9 N	>	$p(\mathbf{G;G;N;N}) = 0.0081$	4
			0.1 G			
			0.1 G	>	$p(\mathbf{G;N;G;G}) = 0.0009$	5
			0.1 G			
			0.9 N	>	$p(\mathbf{G;N;G;N}) = 0.0081$	6
			0.9 N			
			0.1 G	>	$p(\mathbf{G;N;N;G}) = 0.0081$	7
			0.9 N			
			0.9 N	>	$p(\mathbf{G;N;N;N}) = 0.0729$	8
			0.1 G	>	$p(\mathbf{N;G;G;G}) = 0.0009$	9
			0.1 G			
			0.9 N	>	$p(\mathbf{N;G;G;N}) = 0.0081$	10
			0.1 G			
			0.1 G	>	$p(\mathbf{N;G;N;G}) = 0.0081$	11
			0.9 N			
			0.9 N	>	$p(\mathbf{N;G;N;N}) = 0.0729$	12
			0.9 N			
			0.1 G	>	$p(\mathbf{N;N;G;G}) = 0.0081$	13
			0.1 G			
			0.9 N	>	$p(\mathbf{N;N;G;N}) = 0.0729$	14
			0.9 N			
			0.1 G	>	$p(\mathbf{N;N;N;G}) = 0.0729$	15
			0.9 N			
			0.9 N	>	$p(\mathbf{N;N;N;N}) = 0.6561$	16

Mit X als Zufallsvariable, die die Anzahl der Gewinne zählt, und mit der Grundwahrscheinlichkeit $p = 0,1$ errechnen sich z.B. die folgenden Wahrscheinlichkeiten nach der Bernoulli-Formel:

$$p(X=2) = \binom{4}{2} \cdot 0,1^2 \cdot 0,9^2 = 0,0081$$

$$p(X=3) = \binom{4}{3} \cdot 0,1^3 \cdot 0,9^1 = 0,0009$$


Allgemein gilt:

Anzahl Gewinne $k =$	Pfad-wahrscheinlichkeit	Pfad-anzahl	Gesamt-wahrscheinlichkeit $p(X=k) =$
4	0.0001	1	0.0001
3	0.0009	4	0.0036
2	0.0081	6	0.0486
1	0.0729	4	0.2916
0	0.6561	1	0.6561
		Summe	1
		Erwartungswert	0.4
		Standardabweichung	0.6

Die Wahrscheinlichkeitsverteilung der Tabelle führt auf die folgende Wahrscheinlichkeitstafel mit Diagramm der Wahrscheinlichkeiten und kumulierten Wahrscheinlichkeiten einschließlich der σ -Intervalle:

Wahrscheinlichkeitstafel, Diagramm:

n = 4	B(4,0.1)	p = 0.1	
k =	p(X=k) =	p(x≤k) =	
0	0.6561	0.6561	
1	0.2916	0.9477	
2	0.0486	0.9963	
3	0.0036	0.9999	
4	0.0001	1	
n = 4	B(4,0.1)	p = 0.1	
	$\mu = 0.4$		
	$\sigma = 0.6$		
1σ -Intervall:	$p(-0.2 \leq X \leq 1) = p(0 \leq X \leq 1) = 0.948 [\approx 0.683]$		
2σ -Intervall:	$p(-0.8 \leq X \leq 1.6) = p(0 \leq X \leq 1) = 0.948 [\approx 0.954]$		
3σ -Intervall:	$p(-1.4 \leq X \leq 2.2) = p(0 \leq X \leq 2) = 0.996 [\approx 0.997]$		



Damit ist alles zum Bernoulli-Glücksrad-Experiment gesagt.

Aufgabenblatt: Bernoulli-Experiment

1. Berechne die folgenden Werte der Wahrscheinlichkeitsverteilung der Binomialverteilung $B(20,0.25)$ mit der Zufallsvariablen X der Trefferanzahl in einem Bernoulli-Experiment:

- a) $p(X=5)$ b) $p(X \leq 4)$ c) $p(X > 12)$ d) $p(10 < X \leq 15)$ e) $p(8 \leq X \leq 12)$

2. Wie lauten Erwartungswert und Standardabweichung der folgenden Binomialverteilungen $B(n,p)$?

- a) $B(50,0.5)$ b) $B(200,0.15)$ c) $B(100,0.7)$ d) $B(220,0.35)$ e) $B(1000,0.55)$

Bestimme für die $B(n,p)$ -verteilte Zufallsvariablen jeweils die σ -, 2σ -, 3σ -Intervalle.

3. Bei der Produktion von Energiesparlampen sind erfahrungsgemäß zwei von hundert Lampen defekt. Wie groß ist die Wahrscheinlichkeit, dass bei einer Lieferung von 500 Lampen

- a) keine b) 2 c) höchstens 10 d) mindestens 5 e) höchstens 5

defekt sind? Wie viel defekte Lampen sind im Durchschnitt zu erwarten? Mit wie viel defekten Lampen muss man mindestens bzw. höchstens rechnen, wenn man diesbezüglich 95,4% Sicherheit erwarten kann?

4. In einer Urne befinden sich 6 weiße und 4 schwarze Kugeln. Es wird jeweils eine Kugel aus der Urne gezogen und zurückgelegt. X ist die Zufallsvariable, die als Treffer die Anzahl der gezogenen weißen Kugeln zählt.

a) Es wird 100 Mal eine Kugel aus der Urne gezogen und zurückgelegt. Wie groß ist die Wahrscheinlichkeit, 50 Mal „weiß“, mehr als 50 Mal „weiß“, zwischen 30 und 60 Mal „weiß“ zu ziehen. Wie hoch sind der Erwartungswert und die Standardabweichung der Zufallsvariablen?

b) Wie oft muss man das Ziehen einer Kugel wiederholen, wenn man mit einer Wahrscheinlichkeit von mindestens 99% mindestens eine weiße Kugel ziehen möchte?

c) Welche Werte muss die Wahrscheinlichkeit, eine weiße Kugel zu ziehen, annehmen, wenn beim Ziehen von 8 Kugeln die Wahrscheinlichkeit, dass sechs der gezogenen Kugeln weiß sind, 15% beträgt? Ungefähr wie viele weiße und wie viele schwarze Kugeln müssen in diesem Fall in der Urne liegen?

d) Welche Werte muss die Wahrscheinlichkeit, eine weiße Kugel zu ziehen, annehmen, wenn beim Ziehen von 20 Kugeln, die Wahrscheinlichkeit, dass acht der gezogenen Kugeln weiß sind, maximal sein soll?

5. Ein Glücksrad mit den drei Sektoren „rot“ (90°), „weiß“ (120°) und blau (150°) wird 200 Mal gedreht. Die Zufallsvariable X zählt die Anzahl der Ergebnisse „rot“.

a) Warum ist die Zufallsvariable X binomialverteilt?

b) Berechne Erwartungswert μ und Standardabweichung σ .

c) Berechne die folgenden Wahrscheinlichkeiten: $p(X=50)$, $p(X \leq 20)$, $p(X < 10)$, $p(X > 40)$, $p(20 < X \leq 60)$.

d) Wie groß muss k mindestens sein, damit $p(\mu - k \leq X \leq \mu + k)$ mindestens 80% beträgt?

6. Zwei Geräte A und B funktionieren mit denselben Gerätekomponenten K. Gerät A enthält zwei Komponenten und funktioniert auch noch, wenn eine Komponente ausgefallen ist. Gerät B enthält vier Komponenten und funktioniert, wenn mindestens zwei Komponenten in Ordnung sind.

a) Welches Gerät ist zuverlässiger, wenn die Gerätekomponente mit einer Wahrscheinlichkeit von 80% funktioniert?

b) Gib die Intervalle der Komponentenwahrscheinlichkeit p an, in denen die Gerätesicherheit von Gerät A bzw. Gerät B größer ist.

Auf der Grundlage der Wahrscheinlichkeitsrechnung (Stochastik) untersucht Statistik die hinter Zufallsexperimenten liegenden mathematischen Modelle. Die deskriptive Statistik stellt Methoden zur Verfügung, um Datenmaterial (Stichproben) zu charakterisieren und zu analysieren. Die schließende Statistik ist die Statistik der Tests, der statistischen Hypothesen und Hypothesenprüfung. Statistische Tests sind Ausfluss einer statistischen Modellbildung, die u.a. das Schätzen von Parametern, das Aufstellen von Konfidenz- und Prognoseintervallen oder statistische Tests beinhaltet. Die Stochastik stellt dazu das Wissen um spezielle Wahrscheinlichkeitsverteilungen (diskret: Binomial-, Dreiecks-, Gleich-, hypergeometrische, Poissonverteilung; stetig: Normal-, χ^2 -, t-, F-, Exponentialverteilung) zur Verfügung. Die Betrachtung von Stichproben verschiedener Merkmale mündet ein u.a. in die Merkmalskorrelation und die Regressionsanalyse.

Datenblatt: Signifikanztests

Bernoulli-Experiment (als Zufallsexperiment mit zwei Ausgängen): p Grundwahrscheinlichkeit, n Gesamtanzahl, Zufallsvariable X als Anzahl eines günstigen Ergebnisses:

$$p(X = k) = \binom{n}{k} p^k (1-p)^{n-k} \quad \text{mit} \quad \binom{n}{k} = \frac{n(n-1)(n-2)\dots(n-k+1)}{1 \cdot 2 \cdot \dots \cdot k} = \frac{n!}{k!(n-k)!}$$

Aus dem Bernoulli-Experiment ergibt sich die Binomialverteilung $B(n,p)$ für die Zufallsvariable X der Trefferanzahl mit:

$$B(n, p, k) = \binom{n}{k} p^k (1-p)^{n-k}$$

Es gilt: $E(X) = \mu = np$ (Erwartungswert), $\sigma = \sqrt{np(1-p)}$ (Standardabweichung). Weiter gelten die sog. Sigma-Regeln:

$$p(\mu - \sigma \leq X \leq \mu + \sigma) \approx 0,683, \quad p(\mu - 2\sigma \leq X \leq \mu + 2\sigma) \approx 0,954, \quad p(\mu - 3\sigma \leq X \leq \mu + 3\sigma) \approx 0,997$$

Mit Hilfe der Binomialverteilung können sog. Signifikanztests durchgeführt werden, um bei unbekannter Grundwahrscheinlichkeit p eines Bernoulli-Experiments diese Wahrscheinlichkeit anhand von Stichproben zu testen. Dabei wird einer Nullhypothese H_0 eine Gegenhypothese (Alternativhypothese) H_1 gegenübergestellt. Auf der Grundlage einer Entscheidungsregel (Ablehnungsbereich, Nichtablehnungsbereich) bei einer vorgegebenen maximalen Irrtumswahrscheinlichkeit (Signifikanzniveau) α ergibt sich ein Testszenario, dem das Ergebnis einer Stichprobe unterworfen wird. Bei daraus resultierender Ablehnung (Verwerfen) der Nullhypothese ergibt sich ein Fehler (wenn die Nullhypothese wahr ist) als Wahrscheinlichkeit des Ablehnungsbereichs (Irrtumswahrscheinlichkeit). Für sog. einseitige Signifikanztests ergibt sich damit:

Einseitiger Signifikanztest (linksseitig):

$H_0: p=p_0$ bzw. $H_0: p \geq p_0$ (Nullhypothese)
gegen $H_1: p < p_0$ (Gegenhypothese)

bei Stichprobenumfang n und Signifikanzniveau (maximale Irrtumswahrscheinlichkeit) α -> Ablehnungsbereich $[0; g] = \{0, 1, \dots, n\}$ der Nullhypothese bei größtem g mit:

$$p(X \leq g) \leq \alpha$$

-> Durchführung der Stichprobe und Bestimmung der Trefferanzahl -> Ablehnung bzw. Nichtablehnung der Nullhypothese, wenn Trefferanzahl im Ablehnungsbereich bzw. sonst -> Irrtumswahrscheinlichkeit $p(X \leq g) \leq \alpha$.

Dem Ablehnungsbereich $[0; g]$ entspricht der Nichtablehnungsbereich $[g+1; n]$.

Einseitiger Signifikanztest (rechtsseitig):

$H_0: p=p_0$ bzw. $H_0: p \leq p_0$ (Nullhypothese)
gegen $H_1: p > p_0$ (Gegenhypothese)

bei Stichprobenumfang n und Signifikanzniveau (maximale Irrtumswahrscheinlichkeit) α -> Ablehnungsbereich $[g; n] = \{g, g+1, \dots, n\}$ der Nullhypothese bei kleinstem g mit:

$$p(X \geq g) \leq \alpha \quad (*)$$

-> Durchführung der Stichprobe und Bestimmung der Trefferanzahl -> Ablehnung bzw. Nichtablehnung der Nullhypothese, wenn Trefferanzahl im Ablehnungsbereich bzw. sonst -> Irrtumswahrscheinlichkeit $p(X \geq g) \leq \alpha$.

Dabei gilt hinsichtlich der Beziehung (*) die nützliche Umformung:

$$\begin{aligned} p(X \geq g) &\leq \alpha \\ 1 - p(X \leq g-1) &\leq \alpha \\ -p(X \leq g-1) &\leq \alpha - 1 \\ p(X \leq g-1) &\geq 1 - \alpha. \end{aligned}$$

Dem Ablehnungsbereich $[g; n]$ entspricht der Nichtablehnungsbereich $[0; g-1]$.

Beispiel: Einseitiger Signifikanztest (linksseitig) mit $B(20,0.45)$ -verteilter Zufallsvariable: Nullhypothese $H_0: p = 0.45$; Gegenhypothese $H_1: p < 0.45$; Signifikanzniveau $\alpha = 0.05 = 5\%$

n = 20	B(20,0.45)	p = 0.45
k = g	p(X=k) =	p(x≤k) =
0	0.000006	0.000006
1	0.000105	0.000111
2	0.000816	0.000927
3	0.004006	0.004933
4	0.01393	0.018863
5	0.036471	0.055334
6	0.0746	0.129934
7	0.122072	0.252006
8	0.1623	0.414306
9	0.177055	0.591361
10	0.159349	0.750711
11	0.118524	0.869235
12	0.072731	0.941966
13	0.03662	0.978586
14	0.014981	0.993566
15	0.004903	0.998469
16	0.001254	0.999723
17	0.000241	0.999964
18	0.000033	0.999997
19	0.000003	1
20	0	1

Ablehnungsbereich [0; 4], Nichtablehnungsbereich [5; 20] der Nullhypothese $H_0: p = 0.45$ zum Signifikanzniveau $\alpha = 0.05 = 5\%$ bei 20-maliger Versuchswiederholung des Bernoulli-Experiments und Erwartungswert $\mu = 9$; Ablehnungsbereich [0; 4] mit Irrtumswahrscheinlichkeit $0.018863 = 1.8863\% < 5\%$.

Beispiel: Einseitiger Signifikanztest (rechtsseitig) mit $B(15,0.3)$ -verteilter Zufallsvariable: Nullhypothese $H_0: p = 0.3$; Gegenhypothese $H_1: p > 0.3$; Signifikanzniveau $\alpha = 0.10 = 10\%$

n = 15	B(15,0.3)	p = 0.3
k = g-1	p(X=k) =	p(x≤k) =
0	0.004748	0.004748
1	0.03052	0.035268
2	0.09156	0.126828
3	0.17004	0.296868
4	0.218623	0.515491
5	0.20613	0.721621
6	0.147236	0.868857
7	0.08113	0.949987
8	0.03477	0.984757
9	0.01159	0.996347
10	0.00298	0.999328
11	0.000581	0.999908
12	0.000083	0.999991
13	0.000008	0.999999
14	0.000001	1
15	0	1

Nichtablehnungsbereich [0; 7], Ablehnungsbereich [8; 15] der Nullhypothese $H_0: p = 0.3$ zum Signifikanzniveau $\alpha = 0.10 = 10\%$ bei 15-maliger Versuchswiederholung des Bernoulli-Experiments und Erwartungswert $\mu = 4.5$; Ablehnungsbereich [8; 15] mit Irrtumswahrscheinlichkeit $0.015243 = 1.5243\% < 10\%$.

Aufgabenblatt: Signifikanztests

1. Führe die folgenden zweiseitigen Tests durch (n -stufiges Bernoulli-Experiment mit Grundwahrscheinlichkeit p , Zufallsvariable X als Trefferanzahl, Hypothese: $H_0: p = p_0$, α als Signifikanzniveau und k als Trefferanzahl einer Stichprobe):

a) $n=20, p_0=0.45, k=5, \alpha=5\%$ b) $n=80, p_0=0.28, k=25, \alpha=10\%$ c) $n=200, p_0=0.8, k=10, \alpha=5\%$

2. Bestimme mit einem zweiseitigen Signifikanztest zur Nullhypothese $H_0: p=0.5$ den Annahmehereich der binomialverteilten Zufallsvariablen X bei Stichprobenumfang $n=100$ und Signifikanzniveau $\alpha = 10\%$. Eine Stichprobe enthält 72 Treffer. Ist die Hypothese anzunehmen oder abzulehnen?

3. Führe die folgenden einseitigen linksseitigen (rechtsseitigen) Tests durch (n -stufiges Bernoulli-Experiment mit Grundwahrscheinlichkeit p , Zufallsvariable X als Trefferanzahl, Hypothese: $H_0: p = p_0$, α als Signifikanzniveau und k als Trefferanzahl einer Stichprobe):

a) $n=50, p_0=0.65, k=45, \alpha=5\%$ b) $n=100, p_0=0.12, k=25, \alpha=10\%$ c) $n=400, p_0=0.4, k=180, \alpha=1\%$

4. Ein Unternehmen behauptet, dass seine Produkte zu mindestens 98% in Ordnung sind. Stelle Null- und Gegenhypothese auf und ermittle zum Signifikanzniveau 2,5% den Annahme- und Ablehnungsbereich der Nullhypothese sowie die Irrtumswahrscheinlichkeit, wenn 400 Produkte getestet werden sollen.

5. Wirft man 1-€-Münzen 250-mal, so erscheint z.B. 141-mal Kopf. Teste mit einem einseitigen rechtsseitigen Test zum Signifikanzniveau 5%, ob die Münze in gleicher Weise Kopf oder Zahl zeigt.

Aufgabenblatt: Musteraufgaben (ohne Hilfsmittel)

1. In einem Spiel wird ein Glücksrad mit den Sektoren „rot“ (Winkel: 180°), „grün“ (Winkel: 135°) und „blau“ (Winkel: 45°) dreimal gedreht. Wie groß sind die Wahrscheinlichkeiten der folgenden Ereignisse?

- a) Es erscheint immer rot.
- b) Beim zweiten Drehen erscheint blau.
- c) Alle gedrehten Farben sind verschieden.

Mit wie viel Mal „grün“ kann man im Durchschnitt bei diesem Spiel rechnen?

2. Aus einem Behälter mit vier weißen und einer schwarzen Kugel werden solange Kugeln ohne Zurücklegen entnommen, bis die schwarze Kugel erscheint. Wie groß ist die Wahrscheinlichkeit, dabei höchstens drei Kugeln zu ziehen? Mit welcher Anzahl der Ziehungen muss man durchschnittlich rechnen?

3. Bei einem Bernoulli-Versuch beträgt die Trefferwahrscheinlichkeit 0,2. Wie viel Versuchswiederholungen sind nötig, um mit einer Wahrscheinlichkeit von 90% mindestens einmal einen Treffer zu erhalten?

4. Die Zufallsvariable X eines Bernoulli-Experiments sei binomialverteilt mit $n = 20$ und $p = 0,8$. Welche Ereignisse werden durch folgende Wahrscheinlichkeiten beschrieben?

a) $p = \binom{20}{7} \cdot 0,8^7 \cdot 0,2^{13}$

b) $p = 4 \cdot 0,8^{19}$

Wie groß sind folgende Wahrscheinlichkeiten?

c) $p(X > 0)$

d) $p(X = 20)$

e) $p(X = 2)$

Wie groß sind Erwartungswert und Standardabweichung?

Aufgabenblatt: Musteraufgaben (mit Hilfsmitteln)

1. Eine Rubbellos besteht aus 16 Feldern, die in einem Quadrat angeordnet. Die Felder sind verdeckt wie folgt beschriftet: 8 Felder mit jeweils € 5,-, 6 Felder mit jeweils € 10,-, 2 Felder mit jeweils € 50,-. Der Loskäufer darf zwei Felder aufrubbeln. Weisen beide Felder denselben Geldbetrag auf, so entsteht ein Gewinn in Höhe des Betrags, ansonsten geht der Loskäufer leer aus. Das Rubbellos kostet € 3,90.

a) Wie groß sind die Wahrscheinlichkeiten der folgenden Ereignisse?

A: Der Käufer eines Rubbelloses gewinnt einen Geldbetrag in Höhe von € 50,-.

B: Der Loskäufer gewinnt höchstens einen Geldbetrag von € 5,-.

C: Der Loskäufer gewinnt nichts.

b) Ein Rubbellos kostet in der Herstellung € 0,15, der Vertrieb des Rubbelloses kostet € 0,25, der Losverkäufer erhält pro Los € 0,40. Mit welchem Gewinn vor Steuern kann die Lottogesellschaft rechnen, wenn sie die geplanten 1 Millionen Lose verkaufen kann?

c) Ein Loskäufer kauft innerhalb eines Monats jede Woche ein Los. Mit welcher Wahrscheinlichkeit gewinnt er zweimal jeweils € 10,-, mit welcher Wahrscheinlichkeit insgesamt € 20,-?

d) Ein kleiner Zeitschriftenhandel verkauft die Rubbellose. Es wird angenommen, dass der Losverkauf binomialverteilt ist. Täglich werden durchschnittlich 10 Lose verkauft, die Standardabweichung der zugrunde liegenden Binomialverteilung hat dabei den Wert 3. Wie viel Kunden insgesamt kaufen täglich in dem Zeitschriftenhandel ein?

2. Ein Hotel besitzt 240 Zimmer. Um die Auslastung des Hotels zu erhöhen, lässt das Management für manche Nächte mehr Reservierungen annehmen, als Zimmer zu Verfügung stehen. Das Management weiß, dass 3 % der Reservierungen von den (potentiellen) Kunden storniert werden.

a) Das Hotel hat für eine Nacht 250 Reservierungen angenommen. Wie groß ist Wahrscheinlichkeit, dass das Hotel überbucht ist?

b) Wie viel Reservierungen dürfen maximal für eine Nacht angenommen werden, damit die Wahrscheinlichkeit der Überbuchung auf unter 4 % sinkt?

c) Eine computergestützte Analyse der Hoteldaten hinsichtlich der Reservierungen ergibt, dass von 1000 Reservierungen 20 storniert wurden. Hat sich das Verhalten der Kunden diesbezüglich geändert? Führe dazu einen Signifikanztest mit Signifikanzniveau 5 % durch.

3. Bei einem Quiz muss ein Kandidat 20 Fragen beantworten. Jeder Frage sind vier Antworten zugeordnet, von denen nur eine richtig ist.

a) Der Kandidat rät. Wie groß ist die Wahrscheinlichkeit, dass der Kandidat genau fünf Fragen richtig beantwortet? Wie groß ist die Wahrscheinlichkeit, dass der Kandidat bei höchstens zwölf Fragen falsch liegt? Berechne die Wahrscheinlichkeit, dass der Kandidat mehr als die Hälfte der Fragen richtig beantwortet?

b) Durch einen Signifikanztest zum Signifikanzniveau 10 % soll festgestellt werden, ob der Kandidat nur rät oder nicht. Formuliere die Entscheidungsregel.

4. Bei der Herstellung von Spezialschrauben gab es bisher 12 % Ausschuss. Durch eine neue Maschine erhofft sich das Unternehmen eine Verminderung der Ausschussquote. Dazu wird der Produktion eine Stichprobe von 200 Schrauben entnommen.

- a) Entwickle auf der Grundlage eines Signifikanztests ein passendes Testszenario zum Signifikanzniveau 5 %.
- b) Die Stichprobe hat einen Ausschuss von 15 Schrauben ergeben. Was bedeutet dies?
- c) Der Produktionsleiter nimmt an, dass schon ein Ergebnis von bis zu 18 defekten Schrauben auf eine Verbesserung in der Schraubenproduktion hinweisen würde. Welchen Fehler begeht er mit seiner Annahme?
- d) Eine weitere Stichprobe vom selben Umfang und zum selben Signifikanzniveau 5 % ergibt einen Ausschuss von 20 Schrauben. Steht das Ergebnis dieses Tests im Widerspruch zu dem Ergebnis des vorherigen?

5. Ein Glücksrad ist in die drei Sektoren „rot“ (60°), „grün“ (120°) und „blau“ (180°) unterteilt.

a) Das Glücksrad wird 100 Mal gedreht. Wie groß sind die Wahrscheinlichkeiten der folgenden Ereignisse?

- A: Es wird genau 20 Mal „rot“ gedreht.
- B: Es wird höchstens 20 Mal „grün“ gedreht.
- C: Es wird mindestens 75 Mal „blau“ gedreht.
- D: Es wird zwischen 20 und 50 Mal „blau“ gedreht.

b) Mit dem Drehen des Glücksrads ist ein Spiel verbunden. Mit einem Einsatz von € 0,50 kann ein Spieler das Glücksrad zweimal drehen. Dreht er zweimal „rot“, so erhält er € 2,-, dreht er einmal „rot“ € 1,- als Geldbetrag ausgezahlt. Mit welchem Verlust hat der Spieler bei Durchführen des Spiels durchschnittlich zu rechnen? Wie hoch muss der Einsatz sein, damit das Spiel fair ist? Wie muss der Gewinn für zweimal „rot“ geändert werden, damit bei einem Einsatz von € 0,80 das Spiel fair ist?

c) Beim hundertmaligen Drehen des Glücksrads ist aufgefallen, dass 25 Mal „rot“ gedreht wurde. Führe zum Signifikanzniveau von 5% einen einseitigen Signifikanztest durch. Lässt sich damit eine höhere Wahrscheinlichkeit von „rot“ z.B. auf Grund eines Unrundlaufens des Glücksrads bestätigen?

d) Wie groß muss im Übrigen der Winkel des Sektors „rot“ auf dem Glücksrad mindestens sein, damit mit einer Wahrscheinlichkeit von mindestens 90% beim hundertmaligem Drehen mindestens 25 Mal „rot“ auftaucht?