

# Mathematik-Aufgabenpool

## > Grundaufgaben zur Vektorrechnung I

**Einleitung:** Elemente der Vektorrechnung im dreidimensionalen reellen kartesischen  $x_1$ - $x_2$ - $x_3$ -Koordinatensystem sind Punkte  $P(p_1|p_2|p_3)$ , Ortsvektoren  $\vec{p} = \overrightarrow{OP} = (p_1 \ p_2 \ p_3)^T$ , Differenzvektoren  $\overrightarrow{PQ} = \overrightarrow{OQ} - \overrightarrow{OP}$ , Geraden  $g: \vec{x} = \vec{a} + t\vec{u}$  (PF, Stützvektor  $\vec{a}$ , reeller Parameter  $t$ , Richtungsvektor  $\vec{u}$ ), Ebenen  $E: \vec{x} = \vec{b} + t\vec{v} + s\vec{w}$  (PF, Stützvektor  $\vec{b}$ , reelle Parameter  $r, s$ , Richtungsvektoren  $\vec{v}, \vec{w}$ ),  $E: \vec{n} \cdot (\vec{x} - \vec{p}) = 0$  (NF, Normalenvektor  $\vec{n}$ ),  $E: ax_1 + bx_2 + cx_3 = d$  (KF, Normalenvektor  $\vec{n} = (a \ b \ c)^T$ ). Geraden und Ebenen sind Linearkombinationen aus Vektorvielfachen  $t\vec{u}$  und Vektorsummen  $\vec{p} + \vec{q}$  mit Nullvektor  $\vec{0} = (0 \ 0 \ 0)^T$ , Gegenvektor  $-\vec{p}$  zu  $\vec{p}$  oder Mitte  $0,5(\vec{p} + \vec{q})$ . Vektoren haben Richtung und Länge, der Betrag eines Vektors ist:  $|\vec{p}| = (p_1^2 + p_2^2 + p_3^2)^{1/2}$ , der Einheitsvektor berechnet sich als  $\vec{p}_0 = \vec{p}/|\vec{p}|$ . Daneben sind für Vektoren  $\vec{p} = (p_1 \ p_2 \ p_3)^T$  und  $\vec{q} = (q_1 \ q_2 \ q_3)^T$  das Skalarprodukt  $\vec{p} \cdot \vec{q} = p_1q_1 + p_2q_2 + p_3q_3$ , das Vektorprodukt (Kreuzprodukt)  $\vec{p} \times \vec{q} = (p_2q_3 - p_3q_2 \ p_3q_1 - p_1q_3 \ p_1q_2 - p_2q_1)^T$  und das Spatprodukt  $(\vec{p} \times \vec{q}) \cdot \vec{r}$  definiert. Die Vektorrechnung kreist um die Konstruktion von Geraden und Ebenen, um die Lagebeziehungen zwischen Punkten, Geraden und Ebenen (Schnittpunkte, Schnittgeraden, Schnittwinkel, Abstände), um Abbildungen (Verschiebungen von Punkten, Geraden und Ebenen, Streckungen, Projektionen, Spiegelungen von Punkten, Geraden und Ebenen an Punkten, Geraden und Ebenen u.a.).

### Konstruktionen

Voraussetzung	Konstruktion
Punkt A, Richtungsvektor $\vec{u}$	Stützvektor $\vec{a} = \vec{OA}$ , Richtungsvektor $\vec{u}$ , Parameter $t \rightarrow$ Gerade: $g: \vec{x} = \vec{a} + t\vec{u}$ (PF)
Punkte A, B	Stützvektor $\vec{a} = \vec{OA}$ , Richtungsvektor $\vec{u} = \vec{AB}$ , Parameter $t \rightarrow$ Gerade: $g: \vec{x} = \vec{OA} + t\vec{AB} = \vec{a} + t\vec{u}$ (PF)
Gerade $g_1: \vec{x} = \vec{a}_1 + s\vec{u}_1$ (PF) Punkt $A \notin g_1$	Stützvektor $\vec{a} = \vec{OA}$ , Richtungsvektor $\vec{u} = \vec{u}_1$ , Parameter $t \rightarrow$ Gerade: $g: \vec{x} = \vec{OA} + t\vec{u} = \vec{a} + t\vec{u}$ (PF) als zu $g_1$ parallele Gerade durch den Punkt A ( $g \parallel g_1$ )
Gerade $g_1: \vec{x} = \vec{a}_1 + s\vec{u}_1$ (PF) Punkt $A \notin g_1$	Lotfußpunkt $F \in g_1$ mit: $\vec{AF} \cdot \vec{u} = 0$ , Stützvektor $\vec{a} = \vec{OA}$ , Richtungsvektor $\vec{u} = \vec{AF}$ , Parameter $t \rightarrow$ Gerade: $g: \vec{x} = \vec{OA} + t\vec{AF} = \vec{a} + t\vec{u}$ (PF) als zu $g_1$ senkrechte Gerade durch den Punkt A ( $g \perp g_1$ )
Geraden $g: \vec{x} = \vec{a} + t\vec{u} \parallel h: \vec{x} = \vec{b} + t\vec{u}$ (PF)	Mitte $\vec{OM} = \frac{1}{2}(\vec{a} + \vec{b}) \rightarrow$ Mittelparallele $k: \vec{x} = \vec{OM} + t\vec{u}$ (PF) ( $k \parallel g \parallel h$ )
Ebene $E: \vec{x} = \vec{b} + r\vec{v} + s\vec{w}$ (PF) bzw. $E: \vec{n} \cdot (\vec{x} - \vec{b}) = 0$ ( $\vec{n} = \vec{v} \times \vec{w}$ ) (NF) bzw. $E: ax_1 + bx_2 + cx_3 = d$ ( $\vec{n} = (a \ b \ c)^T$ ) (KF), Punkt A	Stützvektor $\vec{a} = \vec{OA}$ , Richtungsvektor $\vec{u} = \vec{n}$ , Parameter $t \rightarrow$ Gerade: $g: \vec{x} = \vec{OA} + t\vec{n} = \vec{a} + t\vec{n}$ (PF) als zu E senkrechte Gerade durch den Punkt A ( $g \perp E$ )

### Geradenkonstruktionen

Voraussetzung	Konstruktion
Punkt A, Richtungsvektoren $\vec{v}, \vec{w}$	Stützvektor $\vec{a} = \vec{OA}$ , Richtungsvektoren $\vec{u}, \vec{v}$ , Parameter $r, s \rightarrow$ Ebene: $E: \vec{x} = \vec{OA} + r\vec{v} + s\vec{w}$ (PF)

Punkte $A(a_1 a_2 a_3)$ , $B(b_1 b_2 b_3)$ , $C(c_1 c_2 c_3)$	Stützvektor $\vec{a} = \vec{OA}$ , Richtungsvektor $\vec{v} = \vec{AB}$ , $\vec{w} = \vec{AC}$ , Parameter $r, s \rightarrow$ Ebene: $E: \vec{x} = \vec{OA} + r\vec{AB} + s\vec{AC}$ (PF); Lineares Gleichungssystem: $\begin{cases} \alpha a_1 + \beta a_2 + \gamma a_3 = 1 \\ \alpha b_1 + \beta b_2 + \gamma b_3 = 1 \\ \alpha c_1 + \beta c_2 + \gamma c_3 = 1 \end{cases} \rightarrow$ Ebene: $E: ax_1 + bx_2 + cx_3 = d$ (KF, mit $O(0 0 0) \notin E$ )
Gerade $g: \vec{x} = \vec{a} + s\vec{u}$ (PF) Punkt $P \notin g$	Stützvektor $\vec{a} = \vec{OA}$ , Richtungsvektor $\vec{v} = \vec{AP}$ , Parameter $t \rightarrow$ Ebene: $E: \vec{x} = \vec{a} + s\vec{u} + t\vec{v}$ (PF)
Gerade $g: \vec{x} = \vec{a} + s\vec{u}$ (PF) Punkt $P$	Ebene: $E: \vec{u}(\vec{x} - \vec{OP}) = 0$ (NF) als zur Gerade $g$ senkrechte Ebene durch den Punkt $P$ ( $E \perp g$ )
Gerade $g_1: \vec{x} = \vec{a}_1 + s\vec{u}_1$ (PF), Gerade $g_2: \vec{x} = \vec{a}_2 + t\vec{u}_2$ (PF), Schnittpunkt $S$ ( $g_1 \cap g_2 = \{S\}$ ), Punkte $P(p_1 p_2 p_3)$ , $Q(q_1 q_2 q_3) \in g_1$ , $R(r_1 r_2 r_3) \in g_2$	Stützvektor $\vec{b} = \vec{OS}$ , Richtungs-/Spannvektoren $\vec{u}_1, \vec{u}_2$ , Parameter $s, t \rightarrow$ Ebene: $E: \vec{x} = \vec{b} + s\vec{u}_1 + t\vec{u}_2$ (PF); LGS: $\begin{cases} \alpha p_1 + \beta p_2 + \gamma p_3 = 1 \\ \alpha q_1 + \beta q_2 + \gamma q_3 = 1 \\ \alpha r_1 + \beta r_2 + \gamma r_3 = 1 \end{cases} \rightarrow$ Ebene: $E: ax_1 + bx_2 + cx_3 = d$ (KF, mit $O(0 0 0) \notin E$ )
Gerade $g_1: \vec{x} = \vec{a}_1 + s\vec{u}_1$ (PF), Gerade $g_2: \vec{x} = \vec{a}_2 + t\vec{u}_2$ (PF), $g_1 \parallel g_2$ , $g_1 \cap g_2 = \{\}$ , Punkte $P(p_1 p_2 p_3)$ , $Q(q_1 q_2 q_3) \in g_1$ , $R(r_1 r_2 r_3) \in g_2$	Stützvektor $\vec{b} = \vec{a}_1$ , Richtungs-/Spannvektoren $\vec{u}, \vec{v} = \vec{a}_2 - \vec{a}_1$ , Pa- rameter $s, t \rightarrow$ Ebene: $E: \vec{x} = \vec{b} + s\vec{u} + t\vec{v}$ LGS: $\begin{cases} \alpha p_1 + \beta p_2 + \gamma p_3 = 1 \\ \alpha q_1 + \beta q_2 + \gamma q_3 = 1 \\ \alpha r_1 + \beta r_2 + \gamma r_3 = 1 \end{cases} \rightarrow$ Ebene: $E: ax_1 + bx_2 + cx_3 = d$ (KF, mit $O(0 0 0) \notin E$ )
$E: ax_1 + bx_2 + cx_3 = d$ (KF) Punkt $P$ , Normalenvektor $\vec{n} = (a \ b \ c)^T$	Ebene: $F: \vec{n}(\vec{x} - \vec{OP}) = 0$ (NF) als zur Ebene $E$ parallele Ebene durch den Punkt $P$ ( $F \parallel E$ )
$E: ax_1 + bx_2 + cx_3 = d$ (KF) Abstand $D$ , Normalenvektor $\vec{n} = (a \ b \ c)^T$	$F_1: ax_1 + bx_2 + cx_3 = d - \left  \vec{n} \right  D$ , $F_2: ax_1 + bx_2 + cx_3 = d + \left  \vec{n} \right  D$ als zur Ebene $E$ parallele Ebenen im Abstand $D$ ( $F_1 \parallel F_2 \parallel E$ )
Ebene: $E: \vec{x} = \vec{b} + r\vec{v} + s\vec{w}$ (PF), bzw. $E: \vec{n}(\vec{x} - \vec{b}) = 0$ ( $\vec{n} = \vec{v} \times \vec{w}$ ) (NF) bzw. $E: ax_1 + bx_2 + cx_3 = d$ ( $\vec{n} = (a \ b \ c)^T$ ) (KF), Punkte $A, B$	Normalenvektor $\vec{n}$ , Parameter $t, u \rightarrow$ Ebene: $F: \vec{x} = \vec{OA} + t\vec{AB} + u\vec{n}$ als zur Ebene $E$ senkrechte Ebene $F$ durch die Gerade $g$ ( $F \perp E$ )
Ebene: $E: \vec{x} = \vec{b} + r\vec{v} + s\vec{w}$ (PF), bzw. $E: \vec{n}(\vec{x} - \vec{b}) = 0$ ( $\vec{n} = \vec{v} \times \vec{w}$ ) (NF) bzw. $E: ax_1 + bx_2 + cx_3 = d$ ( $\vec{n} = (a \ b \ c)^T$ ) (KF), Gerade: $g: \vec{x} = \vec{a} + t\vec{u}$ (PF)	Normalenvektor $\vec{n}$ , Parameter $t, u \rightarrow$ Ebene: $F: \vec{x} = \vec{a} + t\vec{u} + u\vec{n}$ als zur Ebene $E$ senkrechte Ebene $F$ durch die Gerade $g$ ( $F \perp E$ )

### Ebenenkonstruktionen

$\vec{x} = b + r \vec{u} + s \vec{v} \text{ (PF)} \rightarrow \vec{n} = \vec{v} \times \vec{w} \rightarrow E: \vec{n}(\vec{x} - \vec{b}) = 0 \text{ (NF)} \rightarrow E: \vec{n} \cdot \vec{x} = \vec{n} \cdot \vec{b} \rightarrow E: ax_1 + bx_2 + cx_3 = d \text{ (KF)}$
$E: ax_1 + bx_2 + cx_3 = d \text{ (KF)} \rightarrow \text{LGS: } \begin{pmatrix} ax_1 + bx_2 + cx_3 = d \\ x_2 = r \\ x_3 = s \end{pmatrix} \rightarrow E: \vec{x} = \begin{pmatrix} d/a \\ 0 \\ 0 \end{pmatrix} + r \begin{pmatrix} -b/a \\ 1 \\ 0 \end{pmatrix} + s \begin{pmatrix} -c/a \\ 0 \\ 1 \end{pmatrix} \text{ (PF)}$
$E: \vec{n}(\vec{x} - \vec{b}) = 0 \text{ (NF)} \rightarrow E: \vec{n} \cdot \vec{x} = \vec{n} \cdot \vec{b} \rightarrow E: ax_1 + bx_2 + cx_3 = d \text{ (KF)}$
$E: ax_1 + bx_2 + cx_3 = d \text{ (KF)} \rightarrow E: \frac{ax_1 + bx_2 + cx_3 - d}{\sqrt{a^2 + b^2 + c^2}} = 0 \text{ (HNF)}$

**Ebene in Parameter-, Normalen-, Koordinatenform**

**Aufgabe 1:** Bestimme die (Parameter-) Gleichung der Geraden durch die Punkte A(-1|2|5) und B(3|-4|-4).

**Vorgehensweise:** Punkte A, B  $\rightarrow$  Gerade g:  $\vec{x} = \vec{OA} + t \vec{AB}$  (PF).

**Lösung:** Gerade g:  $\vec{x} = \begin{pmatrix} -1 \\ 2 \\ 5 \end{pmatrix} + t \begin{pmatrix} 4 \\ -6 \\ -9 \end{pmatrix}$ .

**Aufgabe 2:** Bestimme die (Parameter-) Gleichung der Geraden h, die durch den Punkt P(8|-4|5)

und parallel zur Geraden g:  $\vec{x} = \begin{pmatrix} -2 \\ 0 \\ 15 \end{pmatrix} + t \begin{pmatrix} 0 \\ -3 \\ 7 \end{pmatrix}$  verläuft.

**Vorgehensweise:** Punkt P  $\notin$  g, Gerade g:  $\vec{x} = \vec{a} + t \vec{u}$   $\rightarrow$  Gerade h:  $\vec{x} = \vec{OP} + t \vec{u} \parallel g$  (PF).

**Lösung:** Gerade h:  $\vec{x} = \begin{pmatrix} 8 \\ -4 \\ 5 \end{pmatrix} + t \begin{pmatrix} 0 \\ -3 \\ 7 \end{pmatrix}$ .

**Aufgabe 3:** Bestimme die (Parameter-, Koordinaten-) Gleichung der Ebene E, auf der die Punkte A(0|-2|-4), B(-2|5|0), C(1|0|4) liegen.

**Vorgehensweise:** Punkte A, B, C  $\rightarrow$  Ebene E:  $\vec{x} = \vec{OA} + r \vec{AB} + s \vec{AC}$  (PF); Punkte A, B, C  $\rightarrow \rightarrow \vec{n} = \vec{AB} \times \vec{AC} \rightarrow$  Ebene E:  $\vec{n}(\vec{x} - \vec{OA}) = 0$  (NF)  $\rightarrow$  Ebene E:  $ax_1 + bx_2 + cx_3 = d$  (KF).

**Lösung:** Ebene E:  $\vec{x} = \begin{pmatrix} 0 \\ -2 \\ -4 \end{pmatrix} + r \begin{pmatrix} -2 \\ 7 \\ 4 \end{pmatrix} + s \begin{pmatrix} 1 \\ 2 \\ 8 \end{pmatrix}$  (PF), E:  $48x_1 + 20x_2 - 11x_3 = 4$  (KF).

**Aufgabe 4:** Bestimme die (Koordinaten-) Gleichung der Ebene F, die den Ursprung des Koordinatensystems enthält und parallel zur Ebene E:  $\vec{x} = \begin{pmatrix} 4 \\ 3 \\ -1 \end{pmatrix} + r \begin{pmatrix} -2 \\ -3 \\ 0 \end{pmatrix} + s \begin{pmatrix} 5 \\ 0 \\ -2 \end{pmatrix}$  verläuft.

**Vorgehensweise:** Punkt  $P \notin E$ , Ebene  $E: \vec{x} = \vec{OB} + r \vec{u} + s \vec{v}$  (PF)  $\rightarrow$  Ebene  $F: \vec{x} = \vec{OP} + r \vec{u} + s \vec{v} \parallel E$  (PF)  $\rightarrow \vec{n} = \vec{u} \times \vec{v}$   
 $\rightarrow$  Ebene  $F: \vec{n}(\vec{x} - \vec{OP}) = 0$  (NF)  $\rightarrow$  Ebene  $F: ax_1 + bx_2 + cx_3 = d$  (KF).

**Lösung:** Ebene  $F: \vec{x} = r \begin{pmatrix} -2 \\ -3 \\ 0 \end{pmatrix} + s \begin{pmatrix} 5 \\ 0 \\ -2 \end{pmatrix}$  (PF),  $F: 6x_1 - 4x_2 + 15x_3 = 0$  (KF).

**Aufgabe 5:** Bestimme die (Parameter-) Gleichung der Geraden  $h$ , die durch den Punkt  $P(-4|7|2)$

läuft und die Gerade  $g: \vec{x} = \begin{pmatrix} 5 \\ 0 \\ 0 \end{pmatrix} + t \begin{pmatrix} -1 \\ 2 \\ 2 \end{pmatrix}$  senkrecht schneidet.

**Vorgehensweise:** Punkt  $P$ , Gerade  $g: \vec{x} = \vec{a} + t \vec{u}$   $\rightarrow$  Lotfußpunkt  $F \in g$  zu  $P$   $\rightarrow$  Gerade  $h: \vec{x} = \vec{OF} + t \vec{FP} \perp g$  (PF).

**Lösung:** Lotfußpunkt  $F(2|6|6)$  ( $t=3$ )  $\rightarrow$  Gerade  $h: \vec{x} = \begin{pmatrix} 2 \\ 6 \\ 6 \end{pmatrix} + t \begin{pmatrix} -6 \\ 1 \\ -4 \end{pmatrix}$ .

**Aufgabe 6:** Bestimme die (Parameter-) Gleichung der Lotgeraden  $h$  durch den Punkt  $P(11|-4|12)$  senkrecht zur Ebene  $E: 2x_1 - 13x_2 = 20$ .

**Vorgehensweise:** Punkt  $P$ , Ebene  $E: \vec{n}(\vec{x} - \vec{OB}) = 0$  (NF)  $\rightarrow$  Lotgerade  $h: \vec{x} = \vec{OP} + t \vec{n} \perp E$  (PF).

**Lösung:** Normalenvektor der Ebene  $E: \vec{n} = \begin{pmatrix} 2 \\ -13 \\ 0 \end{pmatrix}$ ; Gerade  $h: \vec{x} = \begin{pmatrix} 11 \\ -4 \\ 12 \end{pmatrix} + t \begin{pmatrix} 2 \\ -13 \\ 0 \end{pmatrix}$ .

**Aufgabe 7:** Bestimme die (Parameter-) Gleichung der Ebene  $E$ , die senkrecht zu einer Geraden  $g$  durch einen Punkt  $P$  verläuft. Dabei sind:

$$g: \vec{x} = \begin{pmatrix} 2 \\ 6 \\ 6 \end{pmatrix} + t \begin{pmatrix} -6 \\ 1 \\ 4 \end{pmatrix}, P(7|1|-3).$$

**Vorgehensweise:** Punkt  $P$ , Gerade  $g: \vec{x} = \vec{a} + t \vec{u}$   $\rightarrow$  Ebene  $E: \vec{u}(\vec{x} - \vec{OP}) = 0 \perp g$  (NF);

Ebene  $E: ax_1 + bx_2 + cx_3 = d$  (KF)  $\rightarrow$  Ebene  $E: \vec{x} = \begin{pmatrix} d/a \\ 0 \\ 0 \end{pmatrix} + r \begin{pmatrix} -b/a \\ 1 \\ 0 \end{pmatrix} + s \begin{pmatrix} -c/a \\ 0 \\ 1 \end{pmatrix}$  (PF).

**Lösung:** Ebene  $E: -6x_1 + x_2 + 4x_3 = -53$  (KF),  $E: \vec{x} = \begin{pmatrix} 53/6 \\ 0 \\ 0 \end{pmatrix} + r \begin{pmatrix} 1/6 \\ 1 \\ 0 \end{pmatrix} + s \begin{pmatrix} 2/3 \\ 0 \\ 1 \end{pmatrix}$  (PF).

**Aufgabe 8:** Bestimme die (Parameter-) Gleichung der Mittelparallelen k zu den parallelen Geraden

$$g: \vec{x} = \begin{pmatrix} 4 \\ -2 \\ 5 \end{pmatrix} + r \begin{pmatrix} 0 \\ 1 \\ -2 \end{pmatrix} \text{ und } h: \vec{x} = \begin{pmatrix} 3 \\ -8 \\ -5 \end{pmatrix} + s \begin{pmatrix} 0 \\ -2 \\ 4 \end{pmatrix}.$$

**Vorgehensweise:** Geraden g:  $\vec{x} = \vec{a} + t \vec{u}$  || h:  $\vec{x} = \vec{b} + t \vec{u}$  (PF) -> Mitte  $\vec{OM} = \frac{1}{2}(\vec{a} + \vec{b})$  -> Mittelparallele

k:  $\vec{x} = \vec{OM} + t \vec{u}$  (PF).

**Lösung:** Mitte M(3,5|-5|0); Gerade k:  $\vec{x} = \begin{pmatrix} 3,5 \\ -5 \\ 0 \end{pmatrix} + t \begin{pmatrix} 0 \\ 1 \\ -2 \end{pmatrix}.$

**Aufgabe 9:** Bestimme aus der Geraden g:  $\vec{x} = \begin{pmatrix} 5 \\ -5 \\ 2 \end{pmatrix} + t \begin{pmatrix} -4 \\ 3 \\ -2 \end{pmatrix}$  und Punkt P(4|0|7) die (Koordinaten-) Gleichung der Ebene E, die Gerade und Punkt enthält.

**Vorgehensweise:** Punkt P  $\notin$  g, Gerade g:  $\vec{x} = \vec{OA} + t \vec{u}$  -> Ebene E:  $\vec{x} = \vec{OA} + t \vec{u} + s \vec{AP}$  (PF) ->  $\vec{n} = \vec{u} \times \vec{AP}$  -> Ebene E:  $\vec{n}(\vec{x} - \vec{OA}) = 0$  (NF) -> Ebene E:  $ax_1 + bx_2 + cx_3 = d$  (KF).

**Lösung:** Ebene E:  $\vec{x} = \begin{pmatrix} 5 \\ -5 \\ 2 \end{pmatrix} + t \begin{pmatrix} -4 \\ 3 \\ -2 \end{pmatrix} + u \begin{pmatrix} -1 \\ 5 \\ 5 \end{pmatrix}$  (PF), E:  $-25x_1 - 22x_2 + 17x_3 = 19$  (KF).

**Aufgabe 10:** Bestimme aus den parallelen Geraden g:  $\vec{x} = \begin{pmatrix} 3 \\ 5 \\ 7 \end{pmatrix} + r \begin{pmatrix} 2 \\ -1 \\ -2 \end{pmatrix}$  und h:  $\vec{x} = \begin{pmatrix} 8 \\ -2 \\ 1 \end{pmatrix} + s \begin{pmatrix} 2 \\ -1 \\ -2 \end{pmatrix}$

die (Koordinaten-) Gleichung der Ebene E, die die Geraden enthält.

**Vorgehensweise:** Geraden g:  $\vec{x} = \vec{OA} + t \vec{u}$  || h:  $\vec{x} = \vec{OB} + t \vec{u}$  -> Ebene E:  $\vec{x} = \vec{OA} + t \vec{u} + s \vec{AB}$  (PF) ->  $\vec{n} = \vec{u} \times \vec{AB}$  -> Ebene E:  $\vec{n}(\vec{x} - \vec{OA}) = 0$  (NF) -> Ebene E:  $ax_1 + bx_2 + cx_3 = d$  (KF).

**Lösung:** Ebene E:  $\vec{x} = \begin{pmatrix} 3 \\ 5 \\ 7 \end{pmatrix} + r \begin{pmatrix} 2 \\ -1 \\ -2 \end{pmatrix} + s \begin{pmatrix} 5 \\ -7 \\ -6 \end{pmatrix}$  (PF), E:  $8x_1 - 2x_2 + 9x_3 = 77$  (KF).

**Aufgabe 11:** Wie heißt die (Parameter-) Gleichung der senkrecht zur Ebene E stehenden Ebene F durch die Punkte A und B? Dabei sind:

$$E: 4x_1 + 2x_2 - 10x_3 = 12, A(1|2|0), B(0|11|1).$$

**Vorgehensweise:** Punkte A, B, Ebene E:  $\vec{n}(\vec{x} - \vec{OP}) = 0$  (NF) -> Ebene F:  $\vec{x} = \vec{OA} + r \vec{AB} + s \vec{n} \perp E$  (PF).

**Lösung:** Normalenvektor der Ebene E:  $\vec{n} = \begin{pmatrix} 4 \\ 2 \\ -10 \end{pmatrix}$ ; Ebene F:  $\vec{x} = \begin{pmatrix} 1 \\ 2 \\ 0 \end{pmatrix} + r \begin{pmatrix} -1 \\ 9 \\ 1 \end{pmatrix} + s \begin{pmatrix} 4 \\ 2 \\ -10 \end{pmatrix}$  (PF),

F:  $46x_1 + 3x_2 + 19x_3 = 52$  (KF).

**Aufgabe 12:** Wie heißt die (Koordinaten-) Gleichung der senkrecht zur Ebene E stehenden Ebene F durch die Gerade g? Dabei sind:

$$E: -2x_1 + 7x_3 = 21, g: \vec{x} = \begin{pmatrix} 2 \\ -1 \\ -4 \end{pmatrix} + t \begin{pmatrix} 3 \\ 0 \\ 0 \end{pmatrix}.$$

**Vorgehensweise:** Punkte A, B, Ebene E:  $\vec{n}(\vec{x} - \vec{OP}) = 0$  (NF)  $\rightarrow$  Ebene F:  $\vec{x} = \vec{OA} + s\vec{AB} + t\vec{n} \perp E$  (PF).

**Lösung:** Normalenvektor der Ebene E:  $\vec{n} = \begin{pmatrix} -2 \\ 0 \\ 7 \end{pmatrix}$ ; Ebene F:  $\vec{x} = \begin{pmatrix} 2 \\ -1 \\ -4 \end{pmatrix} + t \begin{pmatrix} 3 \\ 0 \\ 0 \end{pmatrix} + s \begin{pmatrix} -2 \\ 0 \\ 7 \end{pmatrix}$  (PF), E:  $x_2 = -1$  (KF).

### Lagebeziehungen

Voraussetzung	Spurpunkte, Lage der Geraden
Punkte P(p <sub>1</sub>  p <sub>2</sub>  p <sub>3</sub> ), Q(q <sub>1</sub>  q <sub>2</sub>  q <sub>3</sub> )	Abstand: $d(P,Q) = \left  \vec{PQ} \right  = \sqrt{(q_1 - p_1)^2 + (q_2 - p_2)^2 + (q_3 - p_3)^2}$

**Lage Punkt – Punkt**

Voraussetzung	Spurpunkte, Lage der Geraden
Gerade g: $\vec{x} = \vec{a} + t\vec{u}$	$x_1 = 0 \rightarrow a_1 + tu_1 = 0 \rightarrow t = t_1 = -a_1/u_1 \rightarrow S_1(0 a_2+t_1u_2 a_3+t_1u_3)$ (Spurpunkt mit $x_2$ - $x_3$ -Ebene, falls $u_1 \neq 0$ ; kein Spurpunkt, falls $u_1 = 0$ ) $x_2 = 0 \rightarrow a_2 + tu_2 = 0 \rightarrow t = t_2 = -a_2/u_2 \rightarrow S_2(a_1+t_2u_1 0 a_3+t_2u_3)$ (Spurpunkt mit $x_1$ - $x_3$ -Ebene, falls $u_2 \neq 0$ ; kein Spurpunkt, falls $u_2 = 0$ ) $x_3 = 0 \rightarrow a_3 + tu_3 = 0 \rightarrow t = t_3 = -a_3/u_3 \rightarrow S_3(a_1+t_3u_1 a_2+t_3u_2 0)$ (Spurpunkt mit $x_1$ - $x_2$ -Ebene, falls $u_3 \neq 0$ ; kein Spurpunkt, falls $u_3 = 0$ ) $u_1 = 0 \rightarrow g \parallel x_2$ - $x_3$ -Ebene $u_2 = 0 \rightarrow g \parallel x_1$ - $x_3$ -Ebene $u_3 = 0 \rightarrow g \parallel x_1$ - $x_2$ -Ebene $u_2 = 0, u_3 = 0 \rightarrow g \parallel x_1$ -Achse $u_1 = 0, u_3 = 0 \rightarrow g \parallel x_2$ -Achse $u_1 = 0, u_2 = 0 \rightarrow g \parallel x_3$ -Achse

**Spurpunkte, Lage von Geraden**

Voraussetzung	Spurpunkte, Lage der Ebene
Ebene E: $ax_1 + bx_2 + cx_3 = d$ $a \neq 0, b \neq 0, c \neq 0$	$S_1(d/a 0 0)$ (Schnittpunkt mit der $x_1$ -Achse) $S_2(0 d/b 0)$ (Schnittpunkt mit der $x_2$ -Achse) $S_3(0 0 d/c)$ (Schnittpunkt mit der $x_3$ -Achse)
Ebene E: $bx_2 + cx_3 = d$ $b \neq 0, c \neq 0$	$S_2(0 d/b 0)$ (Schnittpunkt mit der $x_2$ -Achse) $S_3(0 0 d/c)$ (Schnittpunkt mit der $x_3$ -Achse) $\rightarrow$ Ebene parallel zur $x_1$ -Achse
Ebene E: $ax_1 + cx_3 = d$ $a \neq 0, c \neq 0$	$S_1(d/a 0 0)$ (Schnittpunkt mit der $x_1$ -Achse) $S_3(0 0 d/c)$ (Schnittpunkt mit der $x_3$ -Achse) $\rightarrow$ Ebene parallel zur $x_2$ -Achse
Ebene E: $ax_1 + bx_2 = d$ $a \neq 0, b \neq 0$	$S_1(d/a 0 0)$ (Schnittpunkt mit der $x_1$ -Achse) $S_2(0 d/b 0)$ (Schnittpunkt mit der $x_2$ -Achse) $\rightarrow$ Ebene parallel zur $x_3$ -Achse
Ebene E: $ax_1 = d$ $a \neq 0$	$S_1(d/a 0 0)$ (Schnittpunkt mit der $x_1$ -Achse) $\rightarrow$ Ebene parallel zur $x_2$ - und $x_3$ -Achse $\rightarrow$ Ebene parallel zur $x_2$ - $x_3$ -Ebene
Ebene E: $bx_2 = d$ $b \neq 0$	$S_2(0 d/b 0)$ (Schnittpunkt mit der $x_2$ -Achse) $\rightarrow$ Ebene parallel zur $x_1$ - und $x_3$ -Achse $\rightarrow$ Ebene parallel zur $x_1$ - $x_3$ -Ebene

Ebene E: $cx_3 = d$ $c \neq 0$	$S_3(0 0 d/c)$ (Schnittpunkt mit der $x_3$ -Achse) -> Ebene parallel zur $x_1$ - und $x_2$ -Achse -> Ebene parallel zur $x_1$ - $x_2$ -Ebene
-----------------------------------	--

### Spurpunkte, Lage von Ebenen

Voraussetzung	Lage, Abstand
Punkt P Gerade g: $\vec{x} = \vec{a} + t \vec{u}$ (PF)	a) Punktprobe: $\vec{OP} = \vec{a} + t \vec{u}$ -> 1 Lösung: $P \in g$ ; keine Lösung: $P \notin g$ b) Abstand (Lotfußpunktverfahren): $F \in g$ mit: $\vec{PF} \cdot \vec{u} = 0$ , $d(P, g) = \left  \vec{PF} \right $ c) Abstand (Hilfsebenenverfahren): Hilfsebene $E_H: \vec{u} \cdot (\vec{x} - \vec{p}) = 0$ mit $\vec{p} = \vec{OP}$ , Schnittpunkt F von Hilfsebene $E_H$ und Gerade g als Lot- fußpunkt (Einsetzen der Geradenkomponenten $x_1, x_2, x_3$ in die Ebene -> $t^*$ ) für errechnetes $t^*$ mit $\vec{OF} = \vec{a} + t^* \vec{u}$ , $d(P, g) = \left  \vec{PF} \right $ d) Abstand (Kreuzproduktformel): $d(P, g) = \frac{\left  \vec{u} \times (\vec{OP} - \vec{a}) \right }{\left  \vec{u} \right }$ e) Abstand (Abstandsfunktion): $F_t(a_1 + tu_1   a_2 + tu_2   a_3 + tu_3) \in g$ als „lau- fenden“ Punkt -> Abstandsfunktion $d(t) = \left  \vec{PF}_t \right $ -> Minimum der Abstandsfunktion ( $d'(t)=0$ ) bei $t^*$ -> Lotfußpunkt $\vec{OF} = \vec{a} + t^* \vec{u}$ , $d(P, g) = d(t^*) = \left  \vec{PF} \right $

### Lage Punkt – Gerade

Voraussetzung	Lage, Abstand
Gerade $g_1: \vec{x} = \vec{a}_1 + s \vec{u}_1$ (PF) Gerade $g_2: \vec{x} = \vec{a}_2 + t \vec{u}_2$ (PF)	a) Gleichsetzen der Geradengleichungen: $\vec{a}_1 + s \vec{u}_1 = \vec{a}_2 + t \vec{u}_2$ -> unendlich viele Lösungen: $g_1 = g_2$ , 1 Lösung: Schnittpunkt S mit $g_1 \cap g_2 = \{S\}$ ; keine Lösung: Geraden parallel oder windschief b) Überprüfung auf Parallelität: $\vec{u}_1 = k \vec{u}_2$ -> 1 Lösung: $g_1 \parallel g_2$ , keine Lösung: $g_1, g_2$ windschief c) Abstand (bei parallelen Geraden): $d(g_1, g_2) = d(A_2, g_1)$ mit Punkt $A_2 \in g_2$ , z.B. mit $\vec{a}_2 = \vec{OA}_2$ d) Abstand (bei windschiefen Geraden, Lotfußpunktverfahren): $P_L \in g_1, Q_L \in g_2$ mit: $\vec{P}_L \vec{Q}_L \cdot \vec{u}_1 = 0, \vec{P}_L \vec{Q}_L \cdot \vec{u}_2 = 0, d(g_1, g_2) = \left  \vec{P}_L \vec{Q}_L \right $ ; e) Abstand (bei windschiefen Geraden, Hilfsebenenverfahren): Normalenvektor $\vec{n} = \vec{u}_1 \times \vec{u}_2$ , Hilfsebene $E_H: \vec{n} \cdot (\vec{x} - \vec{a}_1) = 0$ (NF) mit $E_H \parallel g_2, d(g_1, g_2) = d(A_2, E_H)$ mit $A_2 \in g_2$ , z.B. mit $\vec{a}_2 = \vec{OA}_2$ (Hess- esche Normalform); Formel: $d(g_1, g_2) = \frac{\left  \vec{n} \cdot (\vec{a}_2 - \vec{a}_1) \right }{\left  \vec{n} \right }$ f) Schnittwinkel (bei sich schneidenden Geraden): $\varphi = \cos^{-1} \left( \frac{\left  \vec{u}_1 \cdot \vec{u}_2 \right }{\left  \vec{u}_1 \right  \cdot \left  \vec{u}_2 \right } \right)$

### Lage Gerade – Gerade

Voraussetzung	Lage, Abstand
Punkt $P(p_1 p_2 p_3)$ Ebene: $E: x = \vec{b} + r \vec{v} + s \vec{w}$ (PF) bzw. $E: ax_1 + bx_2 + cx_3 = d$ (KF)	a) Punktprobe: $\vec{OP} = \vec{b} + r \vec{u} + s \vec{v} \rightarrow 1$ Lösung: $P \in g$ ; keine Lösung: $P \notin g$ b) Punktprobe: $p_1 x_1 + p_2 x_2 + p_3 x_3 = d \rightarrow$ wahre Aussage: $P \in g$ ; falsche Aussage: $P \notin g$ c) Abstand: $d(P, E) = \frac{ \vec{n} \cdot \vec{OP} - d }{ \vec{n} }$ (Hessesche Normalform)

**Lage Punkt – Ebene**

Voraussetzung	Lage, Abstand
Ebene $E: x = \vec{b} + r \vec{v} + s \vec{w}$ (PF) bzw. $E: \vec{n}(x - \vec{b}) = 0$ ( $\vec{n} = \vec{v} \times \vec{w}$ ) (NF) bzw. $E: ax_1 + bx_2 + cx_3 = d$ ( $\vec{n} = (a \ b \ c)^T$ ) (KF) Gerade: $g: x = \vec{a} + t \vec{u}$ (PF)	a) Gleichsetzen von Ebenen- und Geradengleichung: $\vec{b} + r \vec{v} + s \vec{w} = \vec{a} + t \vec{u}$ (PF) bzw. Einsetzen der Geradenkomponenten $x_1, x_2, x_3$ in die Ebene (KF, NF) $\rightarrow$ unendlich viele Lösungen: $g \subset E$ , 1 Lösung: Schnittpunkt $S$ mit $g \cap E = \{S\}$ ; keine Lösung: $g \parallel E$ b) Abstand (bei Parallelität von Gerade und Ebene): $d(g, E) = d(A, E)$ mit Punkt $A \in g$ , z.B. mit $\vec{a} = \vec{OA}$ (Hessesche Normalform) c) Schnittwinkel (bei sich schneidender Gerade und Ebene): $\varphi = \sin^{-1} \left( \frac{ \vec{n} \cdot \vec{u} }{ \vec{n}  \cdot  \vec{u} } \right)$

**Lage Gerade – Ebene**

Voraussetzung	Lage, Abstand
$E_1: x = \vec{b}_1 + r \vec{v}_1 + s \vec{w}_1$ (PF) bzw. $E_1: ax_1 + bx_2 + cx_3 = d_1$ (KF), $E_2: x = \vec{b}_2 + t \vec{v}_2 + u \vec{w}_2$ (PF) bzw. $E_2: ex_1 + fx_2 + gx_3 = d_2$ (KF) $\vec{n}_1 = \vec{v}_1 \times \vec{w}_1, \vec{n}_2 = \vec{v}_2 \times \vec{w}_2$	a) Gleichsetzen der Ebenengleichung in Parameterform: $\vec{b}_1 + r \vec{v}_1 + s \vec{w}_1 = \vec{b}_2 + t \vec{v}_2 + u \vec{w}_2$ (PF) bzw. Einsetzen der Ebenenkomponenten $x_1, x_2, x_3$ der Ebene $E_1$ in die Ebene $E_2$ (KF): bzw. Lösen des linearen Gleichungssystems $\begin{pmatrix} ax_1 + bx_2 + cx_3 = d_1 \\ ex_1 + fx_2 + gx_3 = d_2 \end{pmatrix}$ . $>$ unendlich viele Lösungen (mit zwei Parametern): $E_1 = E_2$ , unendlich viele Lösungen (mit einem Parametern): Schnittgerade $g$ mit $E_1 \cap E_2 = g$ ; keine Lösung: $E_1 \parallel E_2$ b) Abstand (bei Parallelität der Ebenen): $d(E_1, E_2) = d(A, E_1)$ mit Punkt $A \in E_2$ (Hessesche Normalform) c) Schnittwinkel (bei sich schneidenden Ebenen): $\varphi = \cos^{-1} \left( \frac{ \vec{n}_1 \cdot \vec{n}_2 }{ \vec{n}_1  \cdot  \vec{n}_2 } \right)$

**Lage Ebene – Ebene**

Voraussetzung	Lage
Gerade: $g: x = \vec{a} + t \vec{u}$ (PF) Ebene $E: x = \vec{b} + r \vec{v} + s \vec{w}$ (PF) bzw. $E: \vec{n}(x - \vec{b}) = 0$ ( $\vec{n} = \vec{v} \times \vec{w}$ ) (NF) bzw. $E: ax_1 + bx_2 + cx_3 = d$ ( $\vec{n} = (a \ b \ c)^T$ ) (KF)	a) $\vec{u} \cdot \vec{n} = 0 \rightarrow g \parallel E$ b) $\vec{u} = k \vec{n} \rightarrow g \perp E$

**Orthogonalität, Parallelität Gerade – Ebene**

Voraussetzung	Lage
---------------	------



$\vec{x} = \vec{b}_1 + r \vec{v}_1 + s \vec{w}_1$ (PF) bzw. $E_1: ax_1 + bx_2 + cx_3 = d_1$ (KF), $\vec{x} = \vec{b}_2 + t \vec{v}_2 + u \vec{w}_2$ (PF) bzw. $E_2: ex_1 + fx_2 + gx_3 = d_2$ (KF) $\vec{n}_1 = \vec{v}_1 \times \vec{w}_1, \vec{n}_2 = \vec{v}_2 \times \vec{w}_2$	a) $\vec{n}_1 = k \vec{n}_2 \rightarrow E_1 \parallel E_2$ b) $\vec{n}_1 \cdot \vec{n}_2 = 0 \rightarrow E_1 \perp E_2$
---	--

**Orthogonalität, Parallelität Ebene – Ebene**

**Aufgabe 13:** Bestimme die Spurpunkte der Geraden  $g: \vec{x} = \begin{pmatrix} 3 \\ -4 \\ 0 \end{pmatrix} + t \begin{pmatrix} -1 \\ 2 \\ 5 \end{pmatrix}$ .

**Vorgehensweise:** Gerade  $g \rightarrow$  a)  $x_1 = 0 \rightarrow S_1$ , b)  $x_2 = 0 \rightarrow S_2$ , c)  $x_3 = 0 \rightarrow S_3$  als (eventuelle) Spurpunkte.

**Lösung:** Spurpunkte  $S_1(0|2|15), S_2(1|0|10), S_3(3|-4|0)$ .

**Aufgabe 14:** Bestimme die Spurpunkte der Geraden  $g: \vec{x} = \begin{pmatrix} 6 \\ 1 \\ 2 \end{pmatrix} + t \begin{pmatrix} 2 \\ 0 \\ -4 \end{pmatrix}$ . Welche Aussage kann

über die Lage der Geraden im Koordinatensystem getroffen werden?

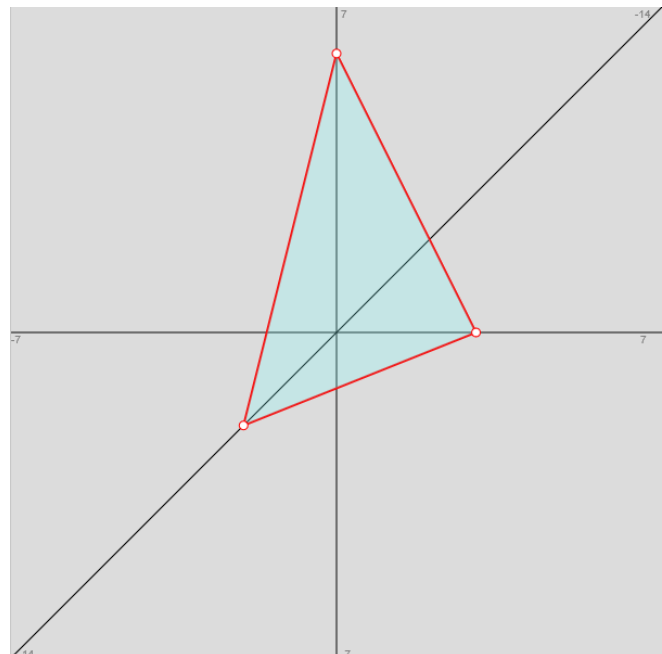
**Vorgehensweise:** Gerade  $g: \vec{x} = \vec{a} + t \vec{u} \rightarrow$  a)  $x_1 = 0 \rightarrow S_1$ , b)  $x_2 = 0 \rightarrow S_2$ , c)  $x_3 = 0 \rightarrow S_3$  als (eventuelle) Spurpunkte.

**Lösung:** Spurpunkte  $S_1(0|1|14), S_3(7|1|0) \rightarrow g \parallel x_1-x_3$ -Ebene.

**Aufgabe 15:** Bestimme die Spurpunkte der Ebene  $E: 3x_1 + 4x_2 + 2x_3 = 12$ . Zeichne die Ebene (Ebenenausschnitt) in ein kartesisches  $x_1-x_2-x_3$ -Koordinatensystem ein.

**Vorgehensweise:** Ebene  $E: ax_1 + bx_2 + cx_3 = d \rightarrow S_1(d/a|0|0), S_2(0|d/b|0), S_3(0|0|d/c)$  als (eventuelle) Spurpunkte.

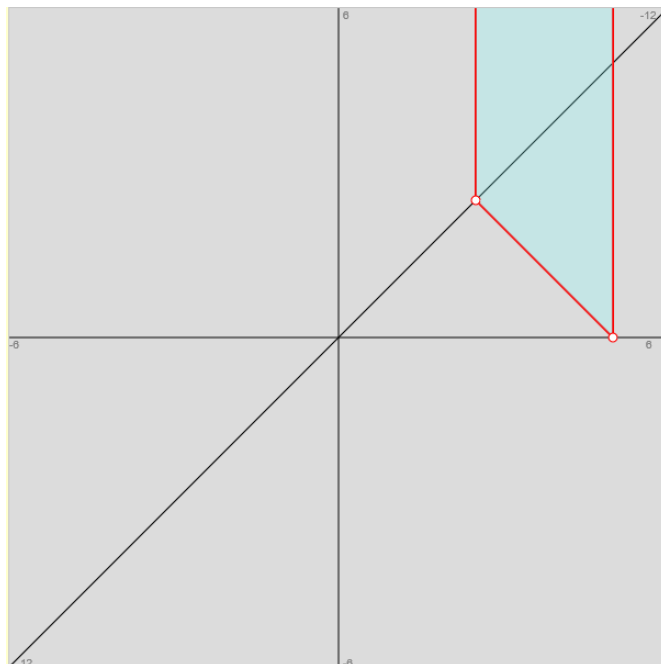
**Lösung:** Spurpunkte  $S_1(4|0|0), S_2(0|3|0), S_3(0|0|6)$ .



**Aufgabe 16:** Zeichne die Ebene  $E: \vec{x} = \begin{pmatrix} 0 \\ 5 \\ 1 \end{pmatrix} + r \begin{pmatrix} 1 \\ 1 \\ 0 \end{pmatrix} + s \begin{pmatrix} 1 \\ 1 \\ -1 \end{pmatrix}$  (Ebenenausschnitt) in ein kartesisches  $x_1-x_2-x_3$ -Koordinatensystem ein.

**Vorgehensweise:** Ebene E:  $\vec{x} = \vec{b} + r \vec{u} + s \vec{v}$  (PF)  $\rightarrow$   
 $\vec{n} = \vec{v} \times \vec{w} \rightarrow E: \vec{n}(\vec{x} - \vec{b}) = 0$  (NF)  $\rightarrow E: \vec{n} \cdot \vec{x} = \vec{n} \cdot \vec{b}$   
 $\rightarrow E: ax_1 + bx_2 + cx_3 = d$  (KF); Ebene E:  $ax_1 + bx_2 + cx_3 = d$   
 $\rightarrow S_1(d/a|0|0), S_2(0|d/b|0), S_3(0|0|d/c)$  als (eventuelle) Spurpunkte.

**Lösung:** E:  $-x_1 + x_2 = 5$ ; Spurpunkte  $S_1(-5|0|0), S_2(0|5|0)$ .



**Aufgabe 17:** Liegt der Punkt  $P(3|2|-8)$  auf der Geraden  $g: \vec{x} = \begin{pmatrix} 1 \\ -2 \\ 2 \end{pmatrix} + t \begin{pmatrix} 1 \\ 2 \\ -5 \end{pmatrix}$ ?

**Vorgehensweise:** Gerade  $g: \vec{x} = \vec{a} + t \vec{u}$  (PF), Punkt  $P \rightarrow$  Punktprobe:  $\vec{OP} = \vec{a} + t \vec{u} \rightarrow 0$  Lsg. bzw. 1 Lsg.  $\rightarrow P \notin g$  bzw.  $P \in g$ .

**Lösung:** Punktprobe  $\rightarrow t=2 \rightarrow P \in g$ .

**Aufgabe 18:** Bestimme den Abstand zwischen der Geraden  $g: \vec{x} = \begin{pmatrix} 12 \\ -4 \\ -8 \end{pmatrix} + t \begin{pmatrix} 1 \\ -2 \\ -2 \end{pmatrix}$  und dem Punkt  $P(-1|-2|6) \notin g$ .

$P(-1|-2|6) \notin g$ .

**Vorgehensweise:** Abstand (Lotfußpunktverfahren), Abstand (Hilfsebenenverfahren) o.ä.  $\rightarrow t^* \rightarrow$  Lotfußpunkt  $F \in g \rightarrow d(P,g)$ .

**Lösung:**  $t=-5 \rightarrow$  Lotfußpunkt  $F(7|6|2) \rightarrow d(P,g) = 12$  LE.

**Aufgabe 19:** Berechne den Schnittpunkt der Geraden  $g$  und  $h$  mit:

$$g: \vec{x} = \begin{pmatrix} -2 \\ 4 \\ 1 \end{pmatrix} + r \begin{pmatrix} -1 \\ -1 \\ 3 \end{pmatrix} \text{ und } h: \vec{x} = \begin{pmatrix} -2 \\ 1 \\ 4 \end{pmatrix} + s \begin{pmatrix} 2 \\ -1 \\ -3 \end{pmatrix}.$$

Wie groß ist der Schnittwinkel?

**Vorgehensweise:** Geraden  $g: \vec{x} = \vec{a} + r \vec{u}_1, h: \vec{x} = \vec{b} + s \vec{u}_2$  (PF)  $\rightarrow$  Gleichsetzen PF  $\rightarrow g \cap h = \{S\}$  (1 Lsg.)  $\rightarrow$

Schnittpunkt  $S$ ; Schnittwinkel  $\varphi = \cos^{-1} \left( \frac{|\vec{u}_1 \cdot \vec{u}_2|}{|\vec{u}_1| \cdot |\vec{u}_2|} \right)$ .

**Lösung:** LGS  $\rightarrow r=2, s=-1 \rightarrow S(-4|2|7)$ ; Schnittwinkel  $\varphi = 36,61^\circ$ .

**Aufgabe 20:** Bestimme den Abstand zwischen den parallelen Geraden g und h mit:

$$g: \vec{x} = \begin{pmatrix} 5 \\ 6 \\ -2 \end{pmatrix} + r \begin{pmatrix} 4 \\ -3 \\ 0 \end{pmatrix}, h: \vec{x} = \begin{pmatrix} 10 \\ -4 \\ -2 \end{pmatrix} + s \begin{pmatrix} -4 \\ 3 \\ 0 \end{pmatrix}.$$

**Vorgehensweise:** Abstand:  $d(g,h) = d(P,g)$  ( $P \in h$ )  $\rightarrow$  Abstand (Lotfußpunktverfahren), Abstand (Hilfebeneverfahren) o.ä.  $\rightarrow t^* \rightarrow$  Lotfußpunkt  $F \in g \rightarrow d(P,g)$ .

**Lösung:**  $P(10|-4|-2) \in h \rightarrow r=2, [s=0] \rightarrow$  Lotfußpunkt  $F(13|0|-2) \in g \rightarrow$  Abstand  $d(g,h) = d(P,g) = 5$  LE.

**Aufgabe 21:** Bestimme die Lage der Geraden g und h mit:

$$g: \vec{x} = \begin{pmatrix} -1 \\ 0 \\ 4 \end{pmatrix} + r \begin{pmatrix} 2 \\ -1 \\ 0 \end{pmatrix} \text{ und } h: \vec{x} = \begin{pmatrix} 0 \\ 1 \\ -2 \end{pmatrix} + s \begin{pmatrix} 0 \\ 1 \\ -1 \end{pmatrix}$$

sowie gegebenenfalls Schnittpunkt und Schnittwinkel bzw. den Abstand der Geraden zueinander.

**Vorgehensweise:** Geraden  $g: \vec{x} = \vec{a} + r \vec{u}$ ,  $h: \vec{x} = \vec{b} + s \vec{v}$  (PF)  $\rightarrow$  Gleichsetzen PF  $\rightarrow$  a)  $g \cap h = \{\}$  (0 Lsg.)  $\rightarrow g \parallel h$  ( $\vec{u} = k \vec{v}$ ) oder windschief (sonst), b)  $g \cap h = \{S\}$  (1 Lsg.)  $\rightarrow$  Schnittpunkt S; Schnittwinkel  $\varphi = \cos^{-1} \left( \frac{|\vec{u} \cdot \vec{v}|}{|\vec{u}| \cdot |\vec{v}|} \right)$

bzw. Abstand: a)  $d(g,h) = d(P,g)$  ( $g \parallel h$ ,  $P \in g$ ), b)  $d(g,h) = d(P, E_H)$  ( $g, h$  windschief;  $P \in h$ ,  $E_H$  als Hilfsebene durch  $g$  und parallel zu  $h$ ).

**Lösung:** LGS  $\rightarrow$  0 Lsg.  $\rightarrow g, h$  windschief; Abstand:  $d(g,h) = 3$  LE.

**Aufgabe 22:** Liegt der Punkt  $P(-6|5|-25)$  auf der Ebene  $E: \vec{x} = \begin{pmatrix} -7 \\ 5 \\ -1 \end{pmatrix} + r \begin{pmatrix} 2 \\ 3 \\ -3 \end{pmatrix} + s \begin{pmatrix} 1 \\ 2 \\ 6 \end{pmatrix}$ ?

**Vorgehensweise:** Punkt  $P(p_1|p_2|p_3)$ , Ebene  $E: \vec{x} = \vec{b} + r \vec{v} + s \vec{w}$  (PF)  $\rightarrow$  Punktprobe:  $\vec{OP} = \vec{b} + r \vec{u} + s \vec{v} \rightarrow 0$  Lsg. bzw. 1 Lsg.  $\rightarrow P \notin g$  bzw.  $P \in g$ .

**Lösung:** LGS  $\rightarrow r=2, s=-3 \rightarrow P \in g$ .

**Aufgabe 23:** Liegt der Punkt  $P(2|-3|5)$  auf der Ebene  $E: 4x_1 - 2x_2 - 2x_3 = 10$ ? Wenn nicht, bestimme den Abstand zwischen Punkt und Ebene.

**Vorgehensweise:** Punkt  $P(p_1|p_2|p_3)$ , Ebene  $E: ax_1 + bx_2 + cx_3 = d$  (KF)  $\rightarrow$  Punktprobe:  $p_1x_1 + p_2x_2 + p_3x_3 = d$

$\rightarrow$  wahre Aussage:  $P \in g$  bzw. falsche Aussage:  $P \notin g$ ; Abstand:  $d(P,E) = \frac{|\vec{n} \cdot \vec{OP} - d|}{|\vec{n}|}$  (HNF).

**Lösung:** Punktprobe:  $4=10$  falsch  $\rightarrow P \notin g$ ; Abstand:  $d(P,E) = 6/\sqrt{24} = 1,225$  LE.

**Aufgabe 24:** Wie liegen Gerade  $g: \vec{x} = \begin{pmatrix} -2 \\ 1 \\ 1 \end{pmatrix} + r \begin{pmatrix} 3 \\ 4 \\ 5 \end{pmatrix}$  und Ebene  $E: 2x_1 + x_2 - 3x_3 = 12$  zueinander?

**Vorgehensweise:** Gerade  $g: \vec{x} = \vec{a} + t \vec{u}$  (PF),  $E: ax_1 + bx_2 + cx_3 = d$  (KF)  $\rightarrow$  Einsetzen PF in KF  $\rightarrow$  a)  $g \cap E = \{\}$  (0 Lsg.)  $\rightarrow g \parallel E$ , b)  $g \cap E = \{S\}$  (1 Lsg.)  $\rightarrow$  Schnittpunkt S, c)  $g \cap E = g$  (unendlich viele Lsg.)  $\rightarrow g$  auf/in  $E$  ( $g \subset E$ ).

**Lösung:** Einsetzen PF in KF  $\rightarrow t=-3,6 \rightarrow$  Schnittpunkt  $S(-12,8|-13,4|-17)$ .

**Aufgabe 25:** Zeige, dass Gerade  $g: \vec{x} = \begin{pmatrix} 12 \\ -10 \\ -5 \end{pmatrix} + r \begin{pmatrix} -3 \\ -1 \\ -4 \end{pmatrix}$  und Ebene  $E: 4x_1 - 3x_3 = 3$  zueinander parallel liegen. Bestimme den Abstand zwischen Gerade und Ebene.

**Vorgehensweise:** Gerade  $g: \vec{x} = \vec{a} + t \vec{u}$  (PF),  $E: ax_1 + bx_2 + cx_3 = d$  (KF)  $\rightarrow \vec{u} \cdot \vec{n} = 0 \rightarrow g \parallel E$ .

**Lösung:**  $\vec{u} \cdot \vec{n} = \begin{pmatrix} -3 \\ -1 \\ -4 \end{pmatrix} \cdot \begin{pmatrix} 4 \\ 0 \\ -3 \end{pmatrix} = 0 \rightarrow g \parallel E \rightarrow d(g, E) = 12 \text{ LE.}$

**Aufgabe 26:** Berechne die (Parameter-) Gleichung der Schnittgeraden und die Größe des Schnittwinkels zwischen den Ebenen E und F mit:

$$E: 2x_1 + x_2 - 3x_3 = 12 \text{ und } F: \vec{x} = \begin{pmatrix} -7 \\ 5 \\ -1 \end{pmatrix} + r \begin{pmatrix} 2 \\ 3 \\ -3 \end{pmatrix} + s \begin{pmatrix} 1 \\ 2 \\ 6 \end{pmatrix}.$$

**Vorgehensweise:** Ebenen  $E: \vec{x} = \vec{b} + r \vec{u} + s \vec{v}$  (PF),  $F: ax_1 + bx_2 + cx_3 = d$  (KF)  $\rightarrow$  Einsetzen PF in KF  $\rightarrow E \cap F = g$

(unendlich viele Lsg, 1 Parameter)  $\rightarrow$  Schnittgerade  $g$ ; Schnittwinkel:  $\varphi = \cos^{-1} \left( \frac{|\vec{n}_1 \cdot \vec{n}_2|}{|\vec{n}_1| \cdot |\vec{n}_2|} \right)$ .

**Lösung:** Einsetzen PF in KF  $\rightarrow$  Schnittgerade  $g: \vec{x} = \begin{pmatrix} 4 \\ 0 \\ 0 \end{pmatrix} + r \begin{pmatrix} 1 \\ 0 \\ -3 \end{pmatrix}$ ; Schnittwinkel:  $\varphi = 77,05^\circ$ .

**Aufgabe 27:** Berechne die (Parameter-) Gleichung der Schnittgeraden und die Größe des Schnittwinkels zwischen den Ebenen E und F mit:

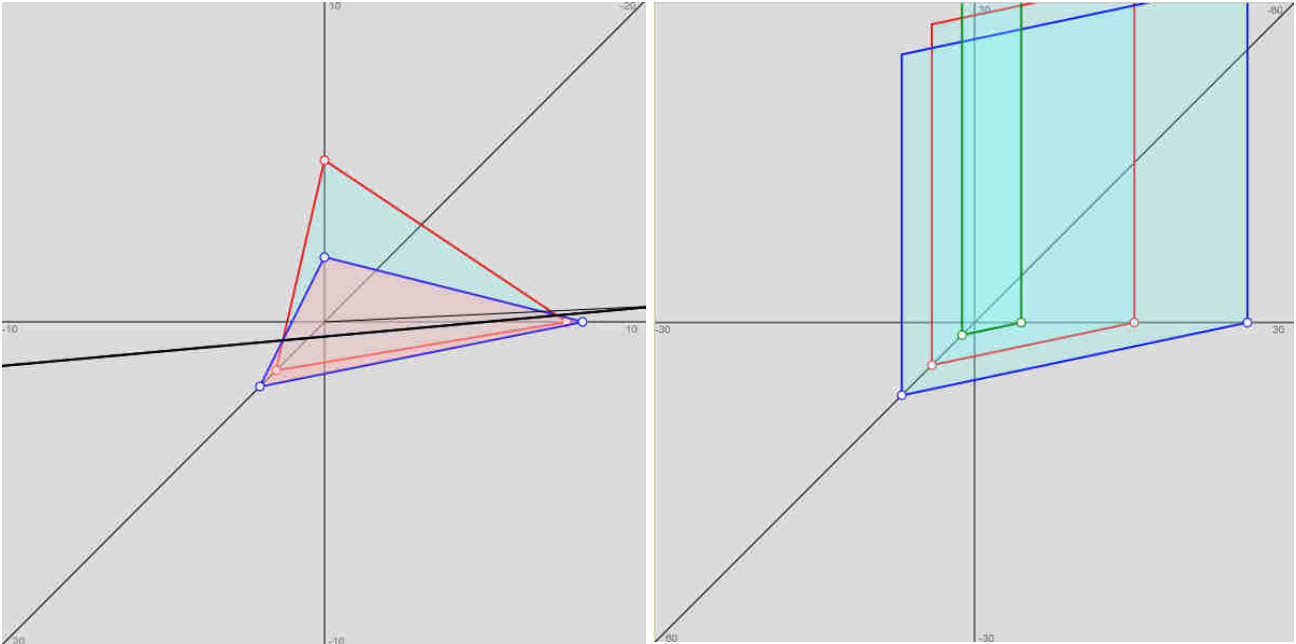
$$E: 5x_1 + 2x_2 + 3x_3 = 15 \text{ und } F: 2x_1 + x_2 + 4x_3 = 8.$$

Zeichne Ebenen und Schnittgerade in ein kartesisches  $x_1$ - $x_2$ - $x_3$ -Koordinatensystem ein.

**Vorgehensweise:** Ebenen  $E: ax_1 + bx_2 + cx_3 = d$ ,  $F: ex_1 + fx_2 + gx_3 = h$  (KF)  $\rightarrow$  LGS  $\rightarrow E \cap F = g$  (unendlich viele Lsg, 1 Parameter)  $\rightarrow$  Schnittgerade  $g$ ; Schnittwinkel:  $\varphi = \cos^{-1} \left( \frac{|\vec{n}_1 \cdot \vec{n}_2|}{|\vec{n}_1| \cdot |\vec{n}_2|} \right)$ .

**Lösung:** LGS  $\rightarrow$  Schnittgerade  $g: \vec{x} = \begin{pmatrix} -1 \\ 10 \\ 0 \end{pmatrix} + r \begin{pmatrix} 5 \\ -14 \\ 1 \end{pmatrix}$ ; Schnittwinkel:  $\varphi = 31,83^\circ$ ;

Ebene E  $\rightarrow$  Spurpunkte  $S_1(3|0|0)$ ,  $S_2(0|7,5|0)$ ,  $S_3(0|0|5)$ ; Ebene F  $\rightarrow$  Spurpunkte  $S_1(4|0|0)$ ,  $S_2(0|8|0)$ ,  $S_3(0|0|2)$ .



**Aufgabe 28:** Bestimme die zur Ebene  $E: \vec{x} = \begin{pmatrix} 4 \\ 7.5 \\ 3 \end{pmatrix} + r \begin{pmatrix} -6 \\ 11.25 \\ -3 \end{pmatrix} + s \begin{pmatrix} 4 \\ 7.5 \\ -7 \end{pmatrix}$  parallelen Ebenen mit Abstand 5 von E. Zeichne die Ebenen in ein kartesisches  $x_1$ - $x_2$ - $x_3$ -Koordinatensystem ein.

**Vorgehensweise:**  $E: \vec{x} = \vec{b} + r \vec{u} + s \vec{v}$  (PF)  $\rightarrow \vec{n} = \vec{v} \times \vec{w} \rightarrow E: \vec{n}(\vec{x} - \vec{b}) = 0$  (NF)  $\rightarrow E: \vec{n} \cdot \vec{x} = \vec{n} \cdot \vec{b}$   $\rightarrow E:$

$ax_1 + bx_2 + cx_3 = d$  (KF); Ebene E:  $ax_1 + bx_2 + cx_3 = d$  (KF), Abstand D  $\rightarrow F_1: ax_1 + bx_2 + cx_3 = d - \left| \vec{n} \right| D,$

$F_2: ax_1 + bx_2 + cx_3 = d + \left| \vec{n} \right| D$  als zur Ebene E parallele Ebenen im Abstand D ( $F_1 \parallel F_2 \parallel E$ ).

**Lösung:** Ebene E (PF)  $\rightarrow E: 15x_1 + 8x_2 = 120 \rightarrow$  Normalenvektor der Ebene E:  $\vec{n} = \begin{pmatrix} 15 \\ 8 \\ 0 \end{pmatrix}$  mit  $\left| \vec{n} \right| = 17$ ; Ebene E  $\rightarrow$

parallele Ebenen mit Abstand 5  $\rightarrow F_1: 15x_1 + 8x_2 = 205, F_2: 15x_1 + 8x_2 = 35$ ;  
Ebene E  $\rightarrow$  Spurpunkte  $S_1(8|0|0), S_2(0|15|0)$ ; Ebene  $F_1 \rightarrow$  Spurpunkte  $S_1(41/3|0|0), S_2(0|205/8|0)$ ; Ebene  $F_2 \rightarrow$  Spurpunkte  $S_1(7/3|0|0), S_2(0|35/8|0)$ .

**Aufgabe 29:** Werden die Punkt  $P(4|2|-3)$  und  $Q(-2|-1|5)$  durch die Ebene  $E: 4x_1 - 5x_2 + 6x_3 = 30$  getrennt oder liegen sie auf derselben Seite der Ebene?

**Vorgehensweise:** Ebene E:  $ax_1 + bx_2 + cx_3 = d$  (KF), Punkt P  $\rightarrow$  Punktprobe:  $p_1x_1 + p_2x_2 + p_3x_3 > / = / < d$ .

**Lösung:** Ebene E  $\rightarrow$  Punkt P:  $-12 < 30$ , Punkt Q:  $27 < 30 \rightarrow$  Punkte P, Q auf derselben Seite der Ebene E.

**Aufgabe 30:** Berechne die Punkte auf der  $x_1$ -,  $x_2$ -,  $x_3$ -Achse, die zur Ebene  $E: 2x_1 + x_2 + 2x_3 = 10$  den Abstand 4 haben. Zeichne Ebene und errechnete Achsenpunkte in ein kartesisches  $x_1$ - $x_2$ - $x_3$ -Koordinatensystem ein.

**Vorgehensweise:** E:  $ax_1 + bx_2 + cx_3 = d$  (KF),

Abstand D  $\rightarrow$   $F_1: ax_1 + bx_2 + cx_3 = d - \left| \vec{n} \right| D$ ,

$F_2: ax_1 + bx_2 + cx_3 = d + \left| \vec{n} \right| D$  als zur Ebene E paral-

lele Ebenen im Abstand D ( $F_1 \parallel F_2 \parallel E$ )  $\rightarrow$  Achsenpunkte als Spurpunkte der parallelen Ebenen  $F_1, F_2$ .

**Lösung:** Normalenvektor der Ebene E:  $\vec{n} = \begin{pmatrix} 2 \\ 1 \\ 2 \end{pmatrix}$  mit:

$\left| \vec{n} \right| = 3$ ; Ebene E  $\rightarrow$  parallele Ebenen mit Abstand 4  $\rightarrow$

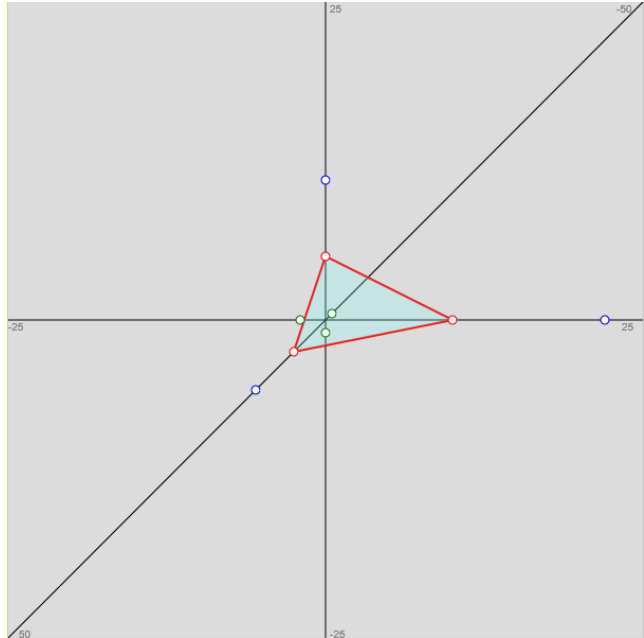
$F_1: 2x_1 + x_2 + 2x_3 = 22$ ,  $F_2: 2x_1 + x_2 + 2x_3 = -2$ ;

Ebene E  $\rightarrow$  Spurpunkte  $S_1(5|0|0)$ ,  $S_2(0|10|0)$ ,  $S_3(0|0|5)$ ;

Ebene  $F_1 \rightarrow$  Achsenpunkte  $P_{11}(11|0|0)$ ,  $P_{12}(0|22|0)$ ,

$P_{13}(0|0|11)$ ; Ebene  $F_2 \rightarrow$  Achsenpunkte  $P_{21}(-1|0|0)$ ,

$P_{22}(0|-2|0)$ ,  $P_{23}(0|0|-1)$ .



**Aufgabe 31:** Bestimme den Punkt F auf der Ebene E:  $3x_1 + 4x_2 + 2x_3 = 19$ , der vom Ursprung  $O(0|0|0)$  des Koordinatensystems den kleinsten Abstand hat.

**Vorgehensweise:** Ebene E:  $ax_1 + bx_2 + cx_3 = d$  (KF), Punkt O  $\rightarrow$  Lotgerade  $h: \vec{x} = t \vec{n} \rightarrow$  Schnittpunkt  $E \cap h = \{F\}$  als Lotfußpunkt auf E bzgl. O.

**Lösung:** Ebene E, Ursprung O  $\rightarrow$  Punkt  $F(3|4|2) \in E$  mit Abstand  $d(O, E) = \left| \vec{OF} \right| = \sqrt{29}$  LE.

**Aufgabe 32:** Wie lautet die (Parameter-) Gleichung der Geraden g, die durch den Punkt  $(11|-4|7)$  parallel zur Ebene E:  $4x_1 - 7x_2 + 4x_3 = 28$  verläuft und die  $x_1$ -Achse schneidet? Wie groß ist der Abstand zwischen Ebene und Gerade?

**Vorgehensweise:** Ebene E:  $ax_1 + bx_2 + cx_3 = d$  (KF), Punkt P  $\rightarrow$  Ebene F:  $ax_1 + bx_2 + cx_3 = d_1$  durch Punkt P mit:

$F \parallel E \rightarrow$  Spurpunkt von F:  $Q(25|0|0) \rightarrow$  Gerade  $g: \vec{x} = \vec{OP} + t \vec{PQ} \parallel E, g \subset F$ ;

$g \parallel E \rightarrow d(g, E) = d(P, E) = \left| \vec{n} \cdot \vec{OP} - d \right| / \left| \vec{n} \right|$  (Hessesche Normalform).

**Lösung:** Ebene E, Punkt P  $\rightarrow$  Ebene F:  $4x_1 - 7x_2 + 4x_3 = 100 \rightarrow Q(25|0|0) \rightarrow g: \vec{x} = \begin{pmatrix} 11 \\ -4 \\ 7 \end{pmatrix} + t \begin{pmatrix} 14 \\ 4 \\ -7 \end{pmatrix}$ ;

$d(g, E) = d(P, E) = 8$  LE.

**Aufgabe 33:** Zeige, dass sich die drei Ebenen

$$E_1: 2x_1 + 3x_2 - 4x_3 = -11, E_2: -x_1 - 2x_2 + 3x_3 = 9, E_3: 3x_1 + 4x_2 - 5x_3 = -13.$$

in einer Schnittgeraden g schneiden. Wie lautet die (Parameter-) Gleichung dieser Schnittgeraden?

**Vorgehensweise:** Ebenen  $E_1, E_2, E_3$  (KF)  $\rightarrow$  LGS  $\rightarrow E_1 \cap E_2 \cap E_3 = g$  (unendlich viele Lsg, 1 Parameter)  $\rightarrow$  Schnittgerade g.

**Lösung:** LGS  $\rightarrow$  Schnittgerade g:  $\vec{x} = \begin{pmatrix} 5 \\ -7 \\ 0 \end{pmatrix} + t \begin{pmatrix} -1 \\ 2 \\ 1 \end{pmatrix}$ .

Abkürzungen:  $\perp$  = orthogonal,  $\parallel$  = parallel, FE = Flächeneinheiten, HNF = Hessesche Normalform, KF = Koordinatenform, LE = Längeneinheiten, LGS = lineares Gleichungssystem, Lsg. = Lösung/en, NF = Normalenform, PF = Parameterform,  $^T$  = transponiert.

[www.michael-buhlmann.de](http://www.michael-buhlmann.de) / 09.2017 / Mathematik-Aufgabenpool: Grundaufgaben der Vektorrechnung I / Aufgaben 453-485